


1 下の数直線で、①～⑥の目もりが表す数を書きましょう。



① ()

② ()

③ ()



④ ()

⑤ ()

⑥ ()

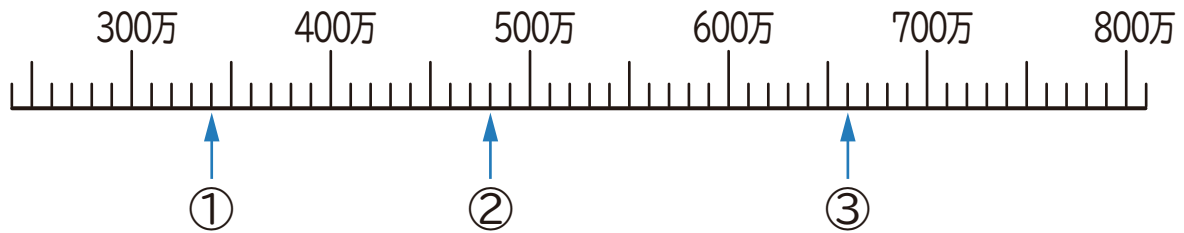
2 にあてはまる等号か不等号を書きましょう。

① 76900 73600

② 428000 369000

③ 500000 440000 + 60000

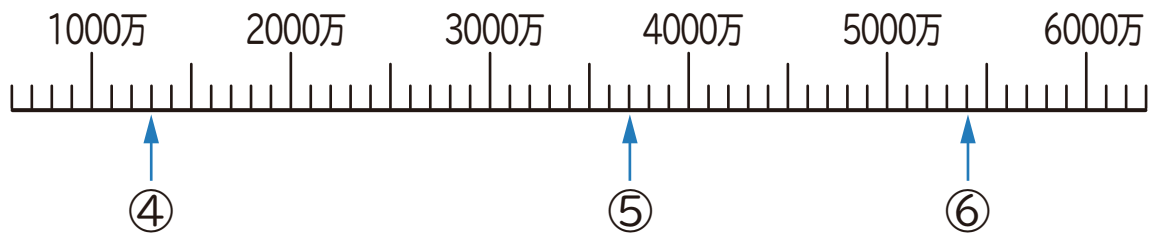
1 下の数直線で、①～⑥の目もりが表す数を書きましょう。



① (340万 (3400000))

② (480万 (4800000))

③ (660万 (6600000))



④ (1300万 (13000000))

⑤ (3700万 (37000000))

⑥ (5400万 (54000000))

2 にあてはまる等号か不等号を書きましょう。

① 76900 73600

② 428000 369000

③ 500000 440000 + 60000