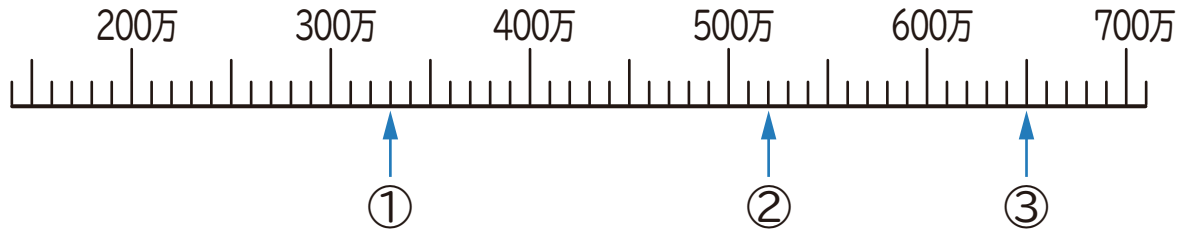


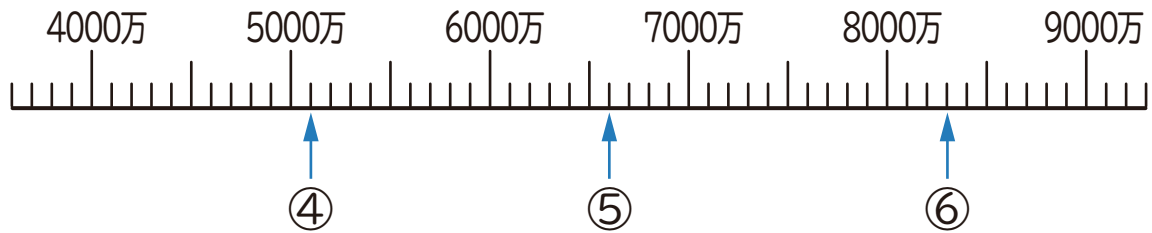
1 下の数直線で、①～⑥の目もりが表す数を書きましょう。



① ()

② ()

③ ()



④ ()

⑤ ()

⑥ ()

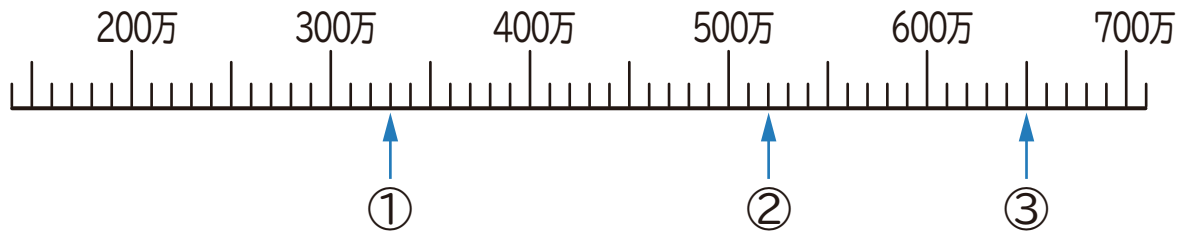
2 にあてはまる等号か不等号を書きましょう。

① 49800 54200

② 896000 723000

③ 200000 180000 + 20000

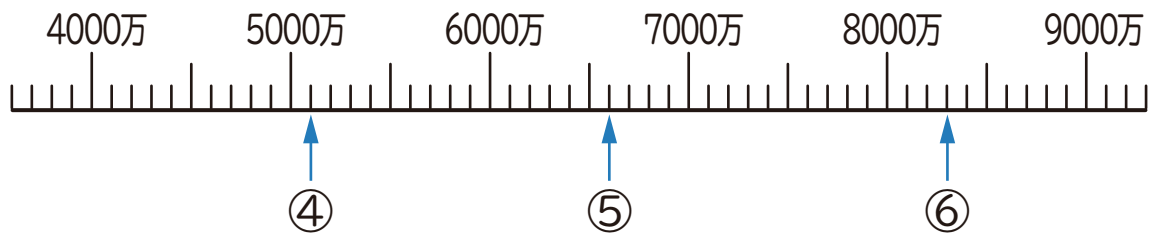
1 下の数直線で、①～⑥の目もりが表す数を書きましょう。



① (330万 (3300000))

② (520万 (5200000))

③ (650万 (6500000))



④ (5100万 (51000000))

⑤ (6600万 (66000000))

⑥ (8300万 (83000000))

2 にあてはまる等号か不等号を書きましょう。

① 49800 54200

② 896000 723000

③ 200000 180000 + 20000