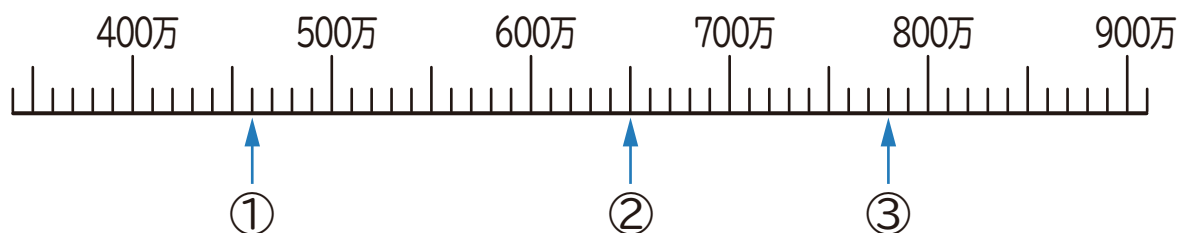


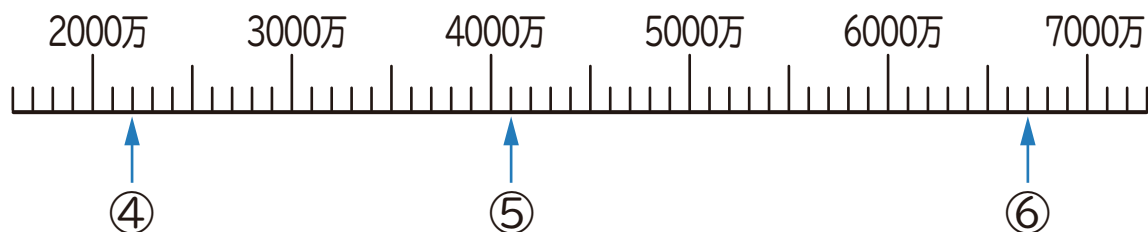
1 下の数直線で、①～⑥の目もりが表す数を書きましょう。



① ()

② ()

③ ()



④ ()

⑤ ()

⑥ ()

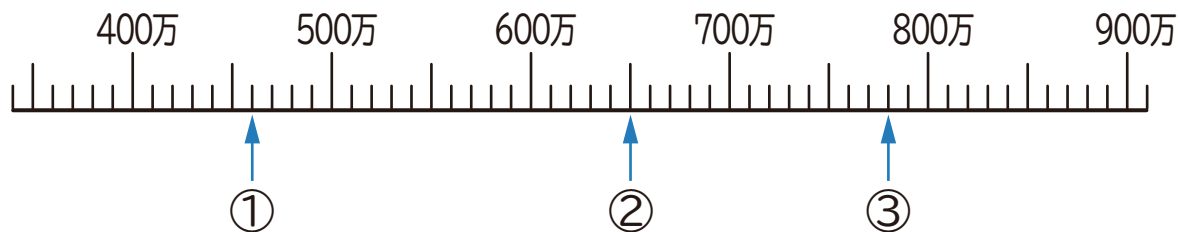
2 にあてはまる等号か不等号を書きましょう。

① 52300 76900

② 498000 426000

③ 10000 9900 + 100

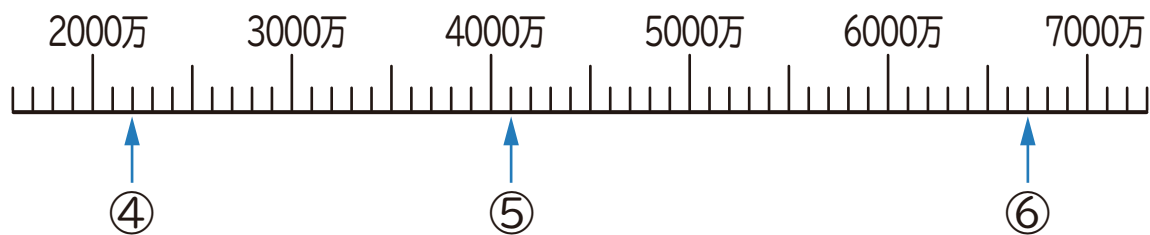
1 下の数直線で、①～⑥の目もりが表す数を書きましょう。



① (460万 (4600000))

② (650万 (6500000))

③ (780万 (7800000))



④ (2200万 (22000000))

⑤ (4100万 (41000000))

⑥ (6700万 (67000000))

2 にあてはまる等号か不等号を書きましょう。

① 52300 76900

② 498000 426000

③ 10000 9900 + 100