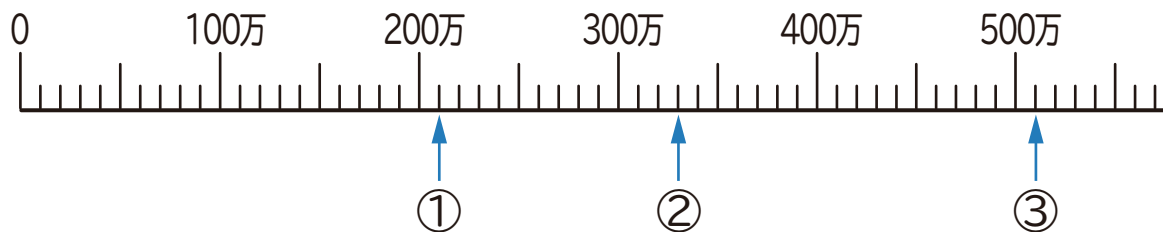


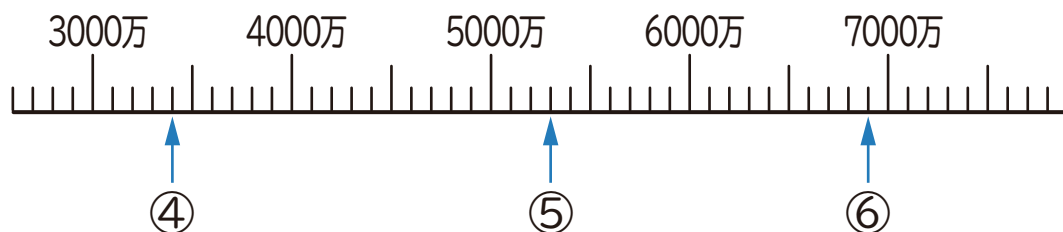
1 下の数直線で、①～⑥の目もりが表す数を書きましょう。



① (                      )

② (                      )

③ (                      )



④ (                      )

⑤ (                      )

⑥ (                      )

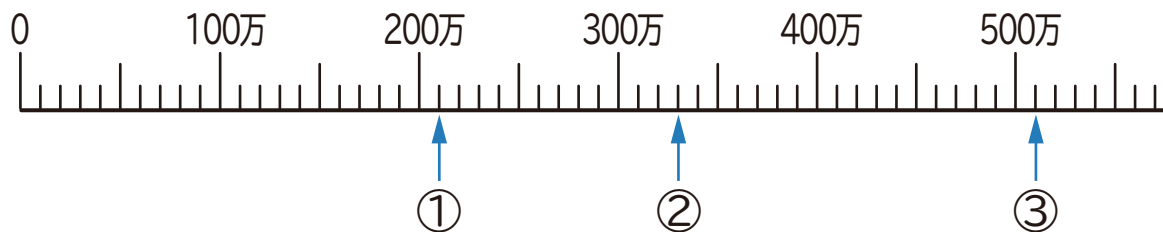
2  にあてはまる等号か不等号を書きましょう。

① 14300  29800

② 376000  392000

③ 50000  49000 + 1000

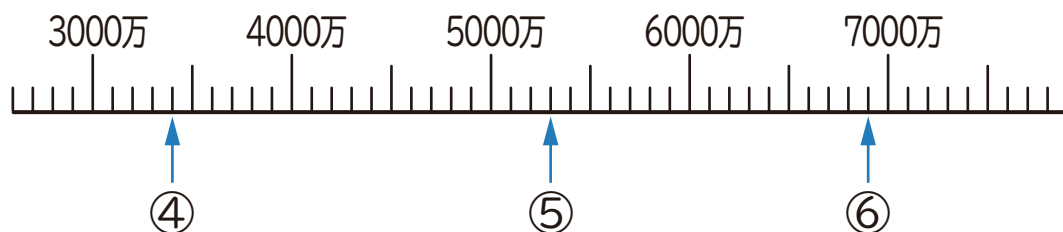
1 下の数直線で、①～⑥の目もりが表す数を書きましょう。



① ( 210万 (2100000) )

② ( 330万 (3300000) )

③ ( 510万 (5100000) )



④ ( 3400万 (34000000) )

⑤ ( 5300万 (53000000) )

⑥ ( 6900万 (69000000) )

2  にあてはまる等号か不等号を書きましょう。

① 14300  29800

② 376000  392000

③ 50000  49000 + 1000