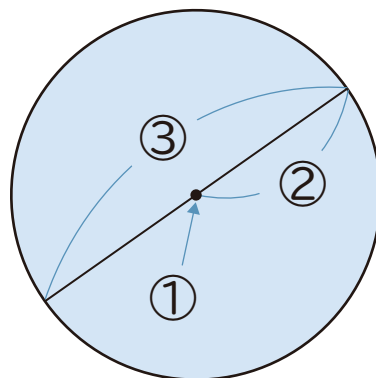


1 下の円の①～③を何といいます。

① の点 ()

② の直線 ()

③ の直線 ()



2 次の長さをもとめましょう。

① 半径4cmの円の直径 ()


② 半径7cmの円の直径 ()

③ 直径6cmの円の半径 ()


④ 直径9cmの円の半径 ()

3 コンパスを使って、次の円をかきましょう。

① 半径3cmの円



② 直径4cmの円

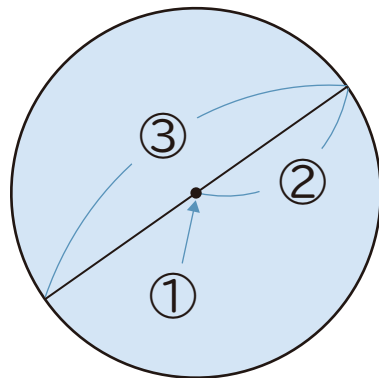


1 下の円の①～③を何といいます。

① の点 (中心)

② の直線 (半径)

③ の直線 (直径)



2 次の長さをもとめましょう。

① 半径4cmの円の直径 (8cm)

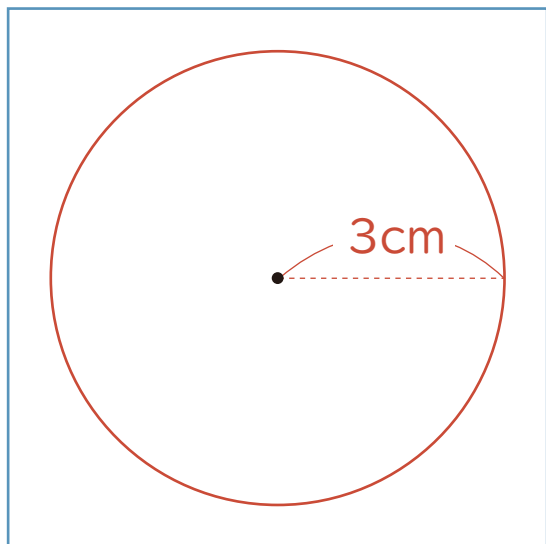
② 半径7cmの円の直径 (14cm)

③ 直径6cmの円の半径 (3cm)

④ 直径9cmの円の半径 (4cm5mm)

3 コンパスを使って、次の円をかきましょう。

① 半径3cmの円



② 直径4cmの円

