

1 下のぼうグラフは、クラスですきな動物を調べたものです。

- ① たてのじくの1目もりは、何人
を表していますか。

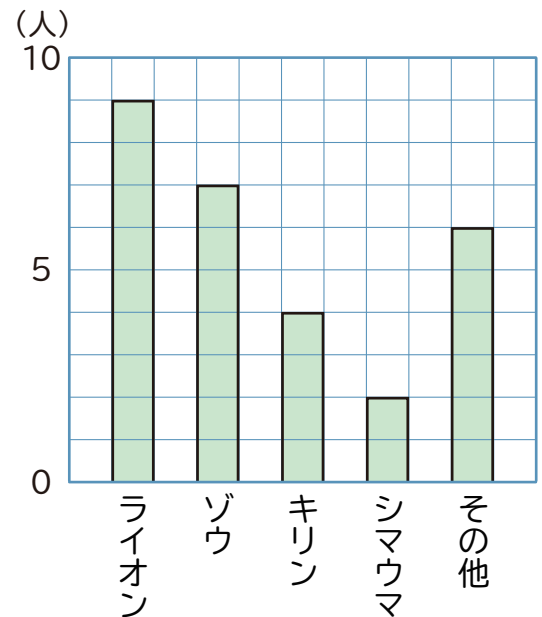
()

- ② ゾウが好きな人は、何人ですか。

()

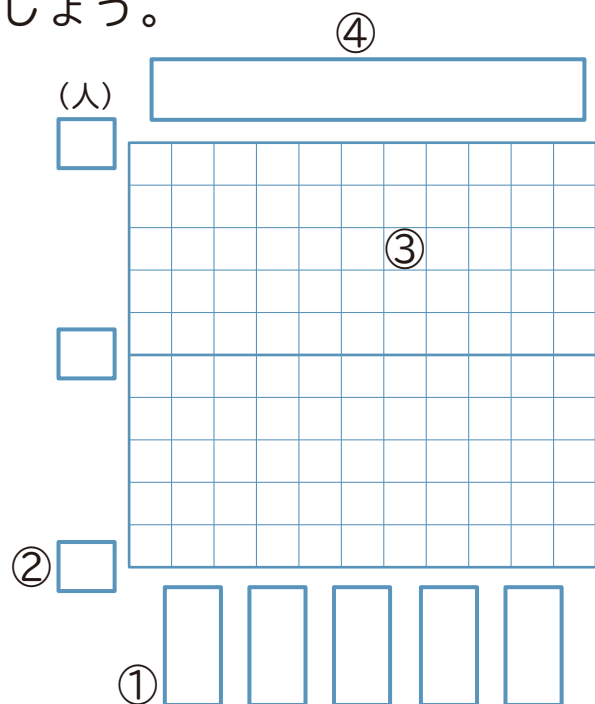
- ③ 一番好きな人が少ない動物は、
何ですか。

()



2 下の表は、クラスですきなくだものを調べたものです。
この表をぼうグラフに表しましょう。

すきなくだものの人数	
しゅるい	人数(人)
いちご	9
メロン	8
りんご	6
バナナ	3
その他	5



- ① 横のじくの に、くだもののしゅるいを書きましょう。

- ② たてのじくの に、目もりを表す数を書きましょう。

- ③ 数を表すぼうを書きましょう。

- ④ 表題を書きましょう。

1 下のぼうグラフは、クラスですきな動物を調べたものです。

- ① たてのじくの1目もりは、何人
を表していますか。

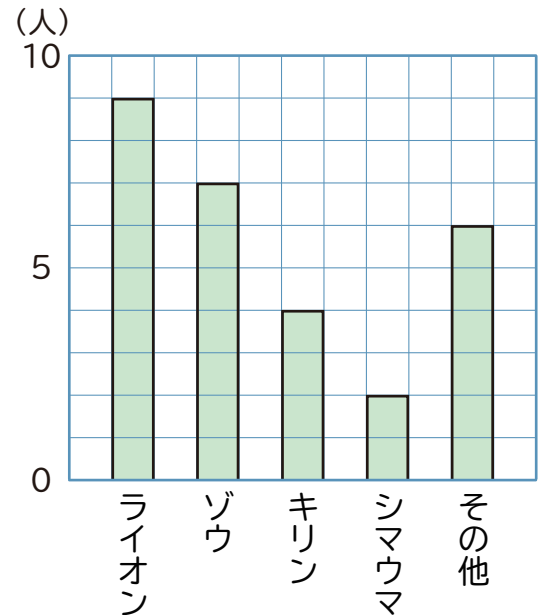
(1人)

- ② ゾウが好きな人は、何人ですか。

(7人)

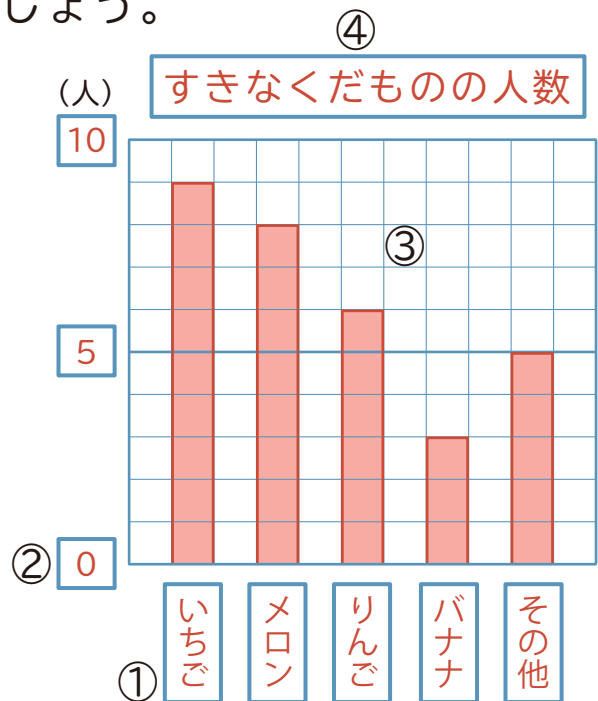
- ③ 一番好きな人が少ない動物は、
何ですか。

(シマウマ)



2 下の表は、クラスですきなくだものを調べたものです。
この表をぼうグラフに表しましょう。

すきなくだものの人数	
しゅるい	人数(人)
いちご	9
メロン	8
りんご	6
バナナ	3
その他	5



- ① 横のじくの に、くだもののしゅるいを書きましょう。

- ② たてのじくの に、目もりを表す数を書きましょう。

- ③ 数を表すぼうを書きましょう。

- ④ 表題を書きましょう。