

ぼうグラフ

ぼうの長さで、数の大きさを表したグラフを、ぼうグラフと
いいます。

1 下のぼうグラフは、クラスで好きなスポーツを調べたもの
です。

① たてのじくの1目もりは、何人
を表していますか。

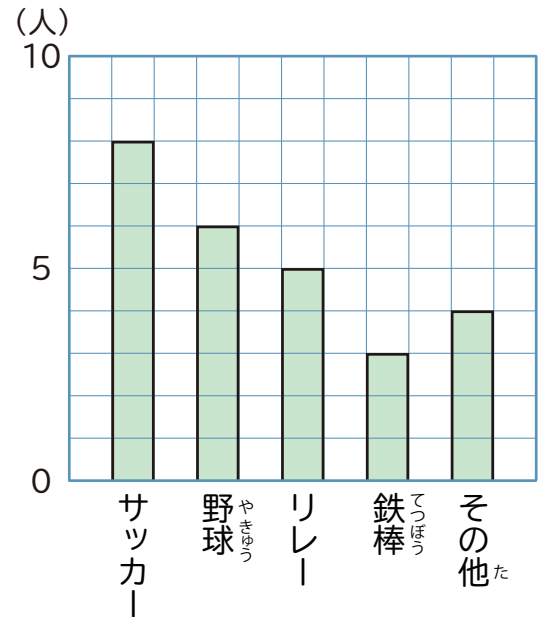
(1人)

② リレーが好きな人は、何人ですか。

(5人)

③ 一番好きな人が多いスポーツは、
何ですか。

(サッカー)



1 下のぼうグラフは、1 週間に学校を休んだ人数を調べた
ものです。

① たてのじくの1目もりは、何人
を表していますか。

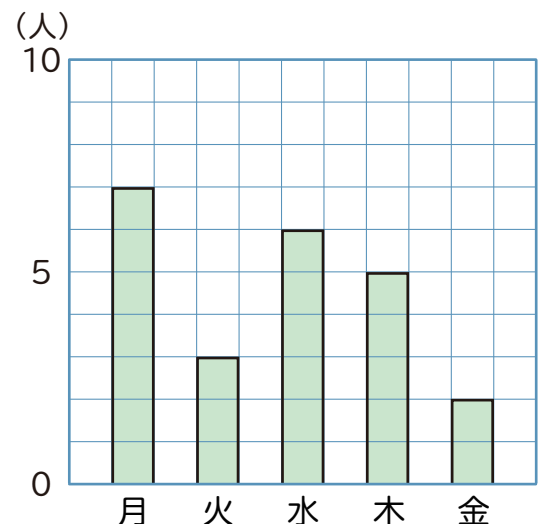
()

② 火曜日に休んだ人は、何人ですか。

()

③ 学校を休んだ人が一番多いのは、
何曜日ですか。

()



ぼうグラフ

ぼうの長さで、数の大きさを表したグラフを、ぼうグラフと
いいます。

1 下のぼうグラフは、クラスで好きなスポーツを調べたもの
です。

① たてのじくの1目もりは、何人
を表していますか。

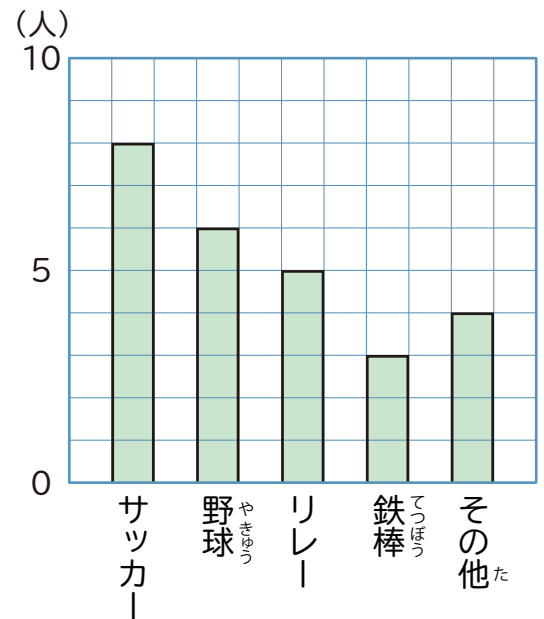
(1人)

② リレーが好きな人は、何人ですか。

(5人)

③ 一番好きな人が多いスポーツは、
何ですか。

(サッカー)



1 下のぼうグラフは、1 週間に学校を休んだ人数を調べた
ものです。

① たてのじくの1目もりは、何人
を表していますか。

(1人)

② 火曜日に休んだ人は、何人ですか。

(3人)

③ 学校を休んだ人が一番多いのは、
何曜日ですか。

(月曜日)

