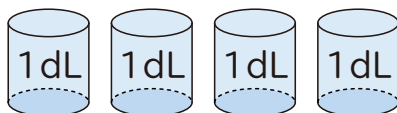
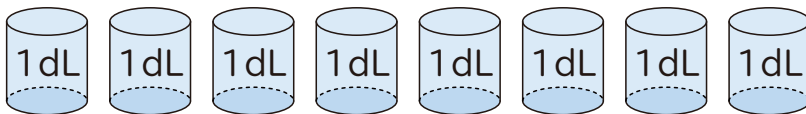


## 1 つぎの 水の かさを しらべましょう。

㊤



㊦



① ㊤の 入れものの かさは 何dLですか。

(            )

② ㊦の 入れものの かさは 何dLですか。

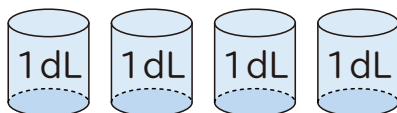
(            )

③ ㊤と㊦の 入れものの かさのちがいは 何dLですか。

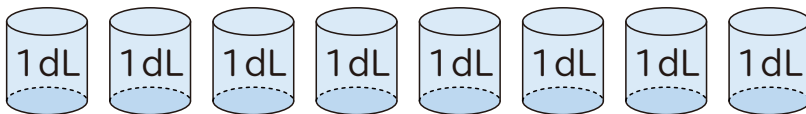
(            )

## 1 つぎの 水の かさを しらべましょう。

㊤



㊦



① ㊤の 入れものの かさは 何dLですか。

( 4dL )

② ㊦の 入れものの かさは 何dLですか。

( 8dL )

③ ㊤と㊦の 入れものの かさのちがいは 何dLですか。

( 4dL )