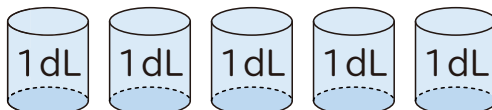


デシリットル

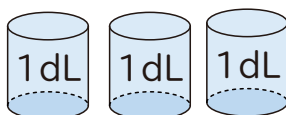
かさのたんいには デシリットルがあり、dLと書きます。

1 つぎの 水の かさを しらべましょう。

㊐



㊑



① ㊐の 水とうの かさは 何dLですか。

()

② ㊑の 水とうの かさは 何dLですか。

()

③ ㊐と㊑の 水とうの かさのちがいは 何dLですか。

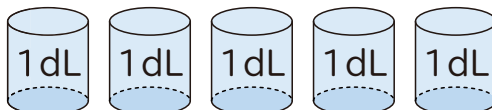
()

デシリットル

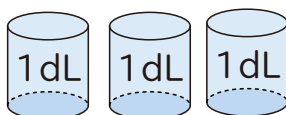
かさのたんいには デシリットルがあり、dLと書きます。

1 つぎの 水の かさを しらべましょう。

㊐



㊑



① ㊐の 水とうの かさは 何dLですか。

(5dL)

② ㊑の 水とうの かさは 何dLですか。

(3dL)

③ ㊐と㊑の 水とうの かさのちがいは 何dLですか。

(2dL)