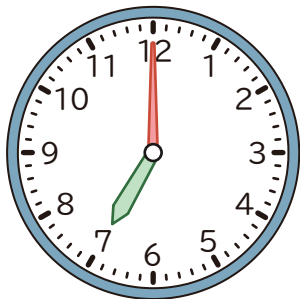


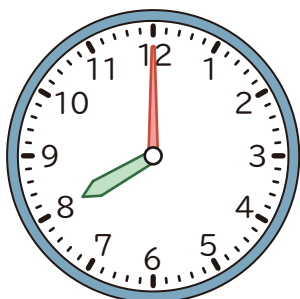
### 1 つぎの 時間をもとめましょう。

① 午前 7 時から 午前 10 時までの 時間



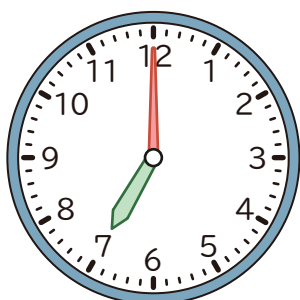
(                      )

② 午前 8 時から 午後 2 時までの 時間




(                      )

③ 午前



から


午前



までの 時間


(                      )

④ 午前



から

午後

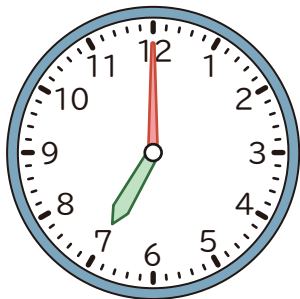


までの 時間

(                      )

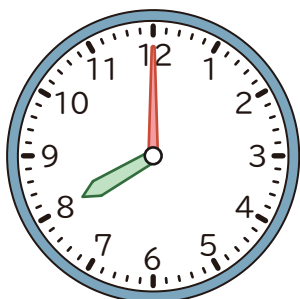
## 1 つぎの 時間をもとめましょう。

① 午前 7 時から 午前 10 時までの 時間



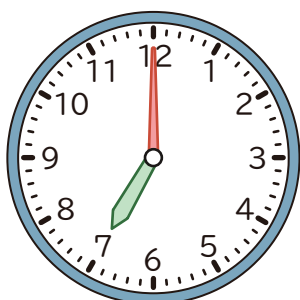
( 3 時間 )

② 午前 8 時から 午後 2 時までの 時間




( 6 時間 )

③ 午前



から


午前



までの 時間


( 4 時間 )

④ 午前



から

午後



までの 時間

( 4 時間 )