

さんすう

ちがいは いくつ

ちがいは いくつに なりますか


どちらが おおいでしょう

に あてはまる かずを かきましょう

① かさが 3ぼん あります。

えんぴつが 5ほん あります。

どちらが なんぼん おおいでしょう。



しき

$$\square - \square = \square$$


こたえ

が  ほん おおい

② ぞうが 3びき います。

きりんが 7ひき います。

どちらが なんびき おおいでしょう。



しき

$$\square - \square = \square$$

こたえ

が  ひき おおい

さんすう

ちがいは いくつ  
ちがいは いくつに なりますか

どちらが おおいでしょう

に あてはまる かずを かきましょう

- ① かさが 3ほん あります。  
えんぴつが 5ほん あります。  
どちらが なんほん おおいでしょう。



しき

5

－

3

=

2

こたえ

えんぴつ


が

2

ほん

おおい

- ② ぞうが 3びき います。  
きりんが 7ひき います。  
どちらが なんびき おおいでしょう。



しき

7

－

3

=

4

こたえ

きりん

が

4

ひき

おおい