

さんすう

のこりは いくつ
のこりは いくつに なりますか

のこりは いくつ

に あてはまる かずを かきましょう

- ① りんごが 5こ あります。
3こ たべると
のこりは いくつに なりますか。




しき

$$\square - \square = \square$$

こたえ

こ

- ② みかんが 3こ あります。
2こ たべると
のこりは いくつに なりますか。



しき

$$\square - \square = \square$$

こたえ

こ


さんすう

のこりは いくつ
のこりは いくつに なりますか

のこりは いくつ

に あてはまる かずを かきましょう

- ① りんごが 5こ あります。
3こ たべると
のこりは いくつに なりますか。



しき

5

－

3

=


2

こたえ

2

こ

- ② みかんが 3こ あります。
2こ たべると
のこりは いくつに なりますか。



しき

3

－

2

=

1

こたえ

1

こ