


さんすう

ふえると いくつ
ふえると いくつに なりますか

ふえると いくつ

に あてはまる かずを かきましょう

- ① りんごが 5こ あります。
3こ ふえると
いくつに なりますか。




しき

$$\square + \square = \square$$

こたえ

$$\square \text{ こ}$$

- ② ボールが 3こ あります。
2こ ふえると
いくつに なりますか。



しき

$$\square + \square = \square$$

こたえ

$$\square \text{ こ}$$


さんすう

ふえると いくつ
ふえると いくつに なりますか

ふえると いくつ

に あてはまる かずを かきましょう

- ① りんごが 5こ あります。
3こ ふえると
いくつに なりますか。



しき

5

+

3

=


8

こたえ

8

こ

- ② ボールが 3こ あります。
2こ ふえると
いくつに なりますか。



しき

3

+

2

=

5

こたえ

5

こ