

さんすう

あわせて いくつ
あわせて いくつに なりますか

あわせて いくつ

に あてはまる かずを かきましょう


- ① きいろい かさが 3 ほん あります。
くろい かさが 4 ほん あります。
あわせて いくつになりますか。

あわせて ほん




- ② あかい えんぴつが 5 ほん あります。
あおい えんぴつが 4 ほん あります。
あわせて いくつになりますか。

あわせて ほん



- ③ ぞうが 2 ひき います。
きりんが 5 ひき います。
あわせて いくつになりますか。

あわせて ひき



さんすう

あわせて いくつ

あわせて いくつに なりますか

あわせて いくつ

に あてはまる かずを かきましょう


- ① きいろい かさが 3 ほん あります。
くろい かさが 4 ほん あります。
あわせて いくつになりますか。

あわせて ほん



- ② あかい えんぴつが 5 ほん あります。
あおい えんぴつが 4 ほん あります。
あわせて いくつになりますか。

あわせて ほん



- ③ ぞうが 2 ひき います。
きりんが 5 ひき います。
あわせて いくつになりますか。

あわせて ひき

