

さんすう


あわせて いくつ

あわせて いくつに なりますか

あわせて いくつ

に あてはまる かずを かきましょう

- ① りんごが 5こ あります。
みかんが 3こ あります。
あわせて いくつになりますか。



あわせて こ



- ② きいろい ボールが 4こ あります。
あかい ボールが 2こ あります。
あわせて いくつになりますか。

あわせて こ



- ③ あおい さかなが 1ぴき います。
あかい さかなが 4ひき います。
あわせて いくつになりますか。

あわせて ひき




さんすう

あわせて いくつ
あわせて いくつに なりますか

あわせて いくつ

に あてはまる かずを かきましょう

- ① りんごが 5こ あります。
みかんが 3こ あります。
あわせて いくつになりますか。



あわせて こ

- ② きいろい ボールが 4こ あります。
あかい ボールが 2こ あります。
あわせて いくつになりますか。

あわせて こ



- ③ あおい さかなが 1ぴき います。
あかい さかなが 4ひき います。
あわせて いくつになりますか。

あわせて ひき

