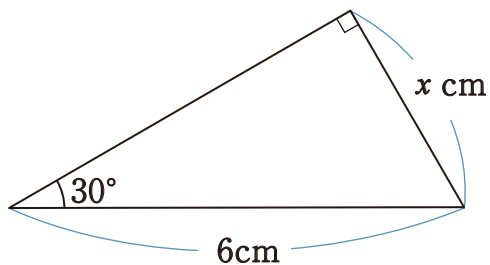
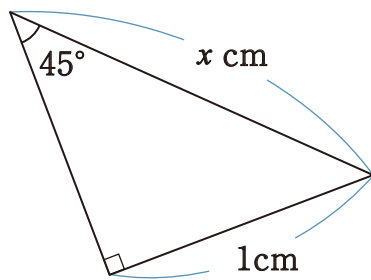


1 次の直角三角形について、 $x$  の値を求めなさい。

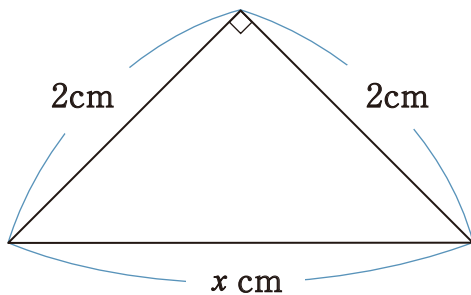
①



②

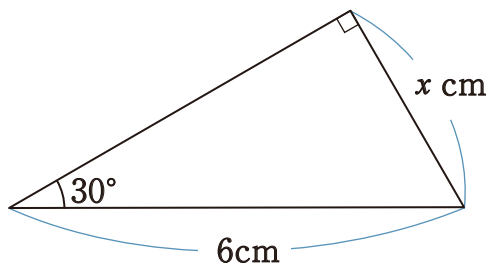


③



1 次の直角三角形について、 $x$  の値を求めなさい。

①



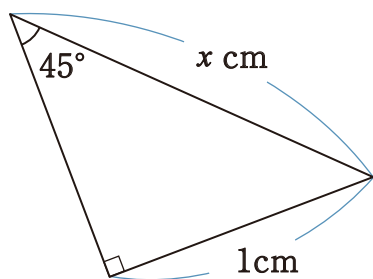
$$x = 3$$

$$6 : x = 2 : 1$$

$$2x = 6$$

$$x = 3$$

②

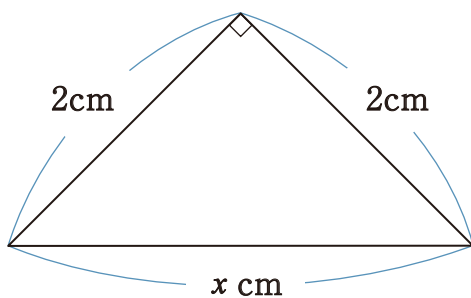


$$x = \sqrt{2}$$

$$1 : x = 1 : \sqrt{2}$$

$$x = \sqrt{2}$$

③



$$x = 2\sqrt{2}$$

$$2 : x = 1 : \sqrt{2}$$

$$x = 2\sqrt{2}$$