

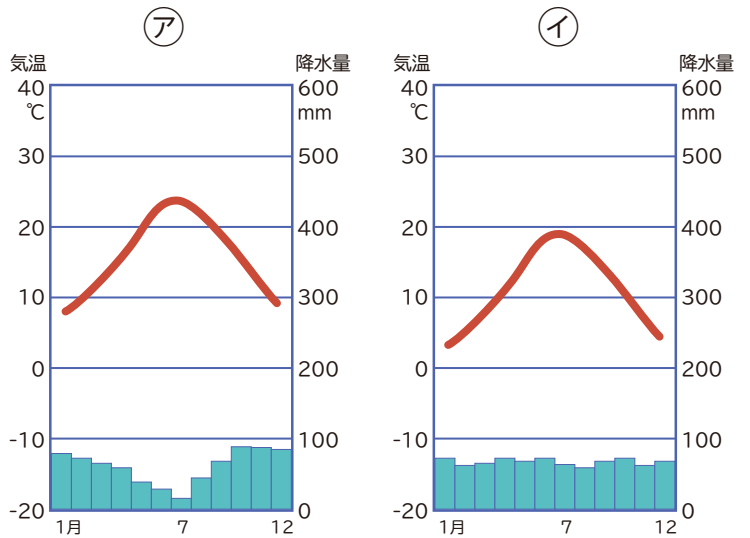
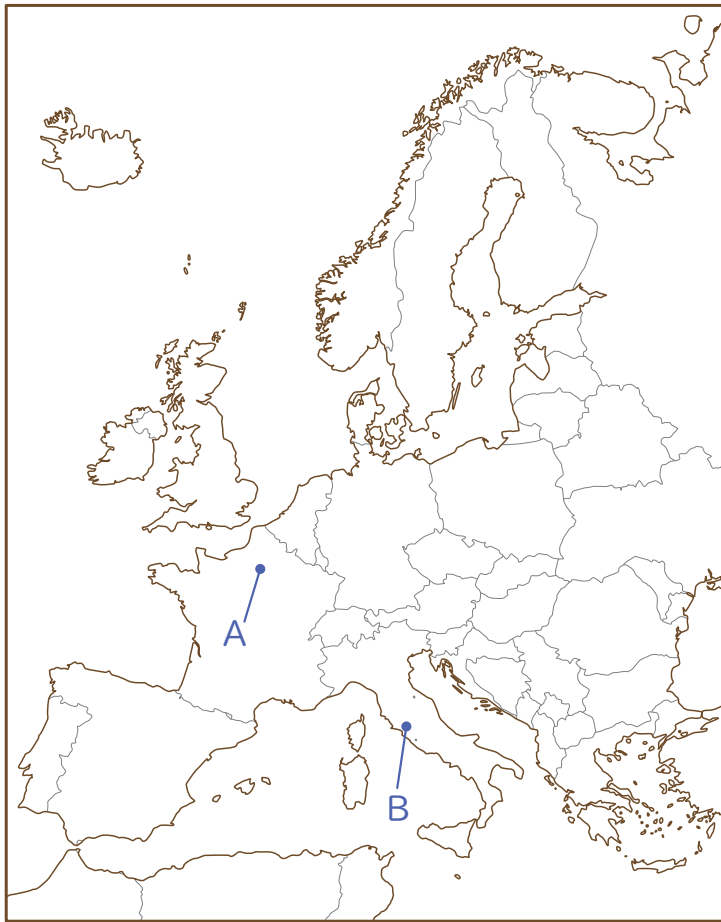
## ヨーロッパ州の気候と農業

①次の [ ] に当てはまる言葉を書きなさい。

ヨーロッパの地中海沿岸は、[ ] 気候に属し、夏の降水量が少なくいため、乾燥に強い [ ] [ ] トマトなどが栽培されている。

ヨーロッパ中部は [ ] 気候に属し、[ ] [ ] が栽培されている。

②次の雨温図①～②は、地図中の A～B のどこにあてはまるか選びなさい。



①
②

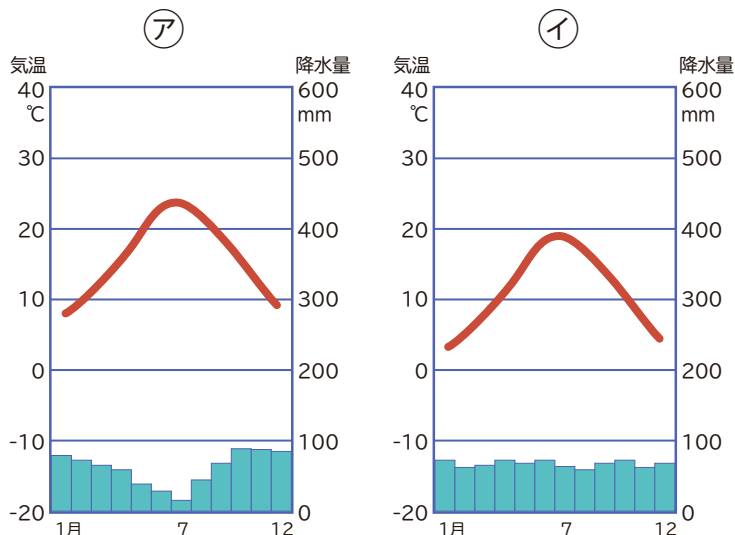
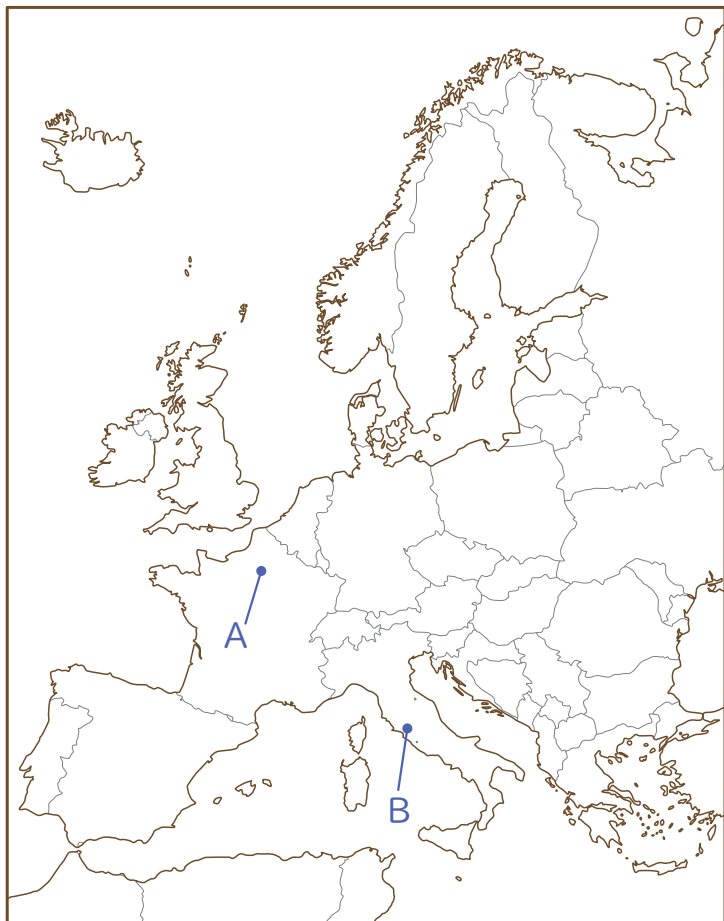
### ヨーロッパ州の気候と農業

①次の [ ] に当てはまる言葉を書きなさい。

ヨーロッパの地中海沿岸は、[ **地中海性** ] 気候に属し、夏の降水量が少なくいため、乾燥に強い [ **オリーブ** ] [ **ぶどう** ] トマトなどが栽培されている。

ヨーロッパ中部は [ **西岸海洋性** ] 気候に属し、[ **小麦** ] [ **ライ麦** ] が栽培されている。

②次の雨温図①～②は、地図中の A ～ B のどこにあてはまるか選びなさい。



①	B
②	A

#### 【解説】

①は夏の降水量が少ないため、地中海周辺の地中海性気候のBとなる。

②は緯度が高いわりには暖かい西岸海洋性気候のAとなる。