

アジア州の気候と雨温図

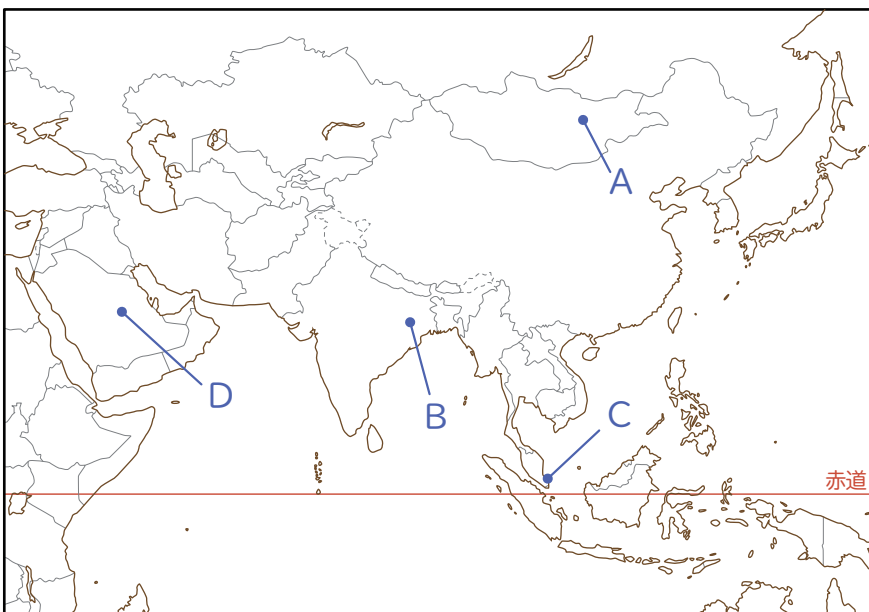
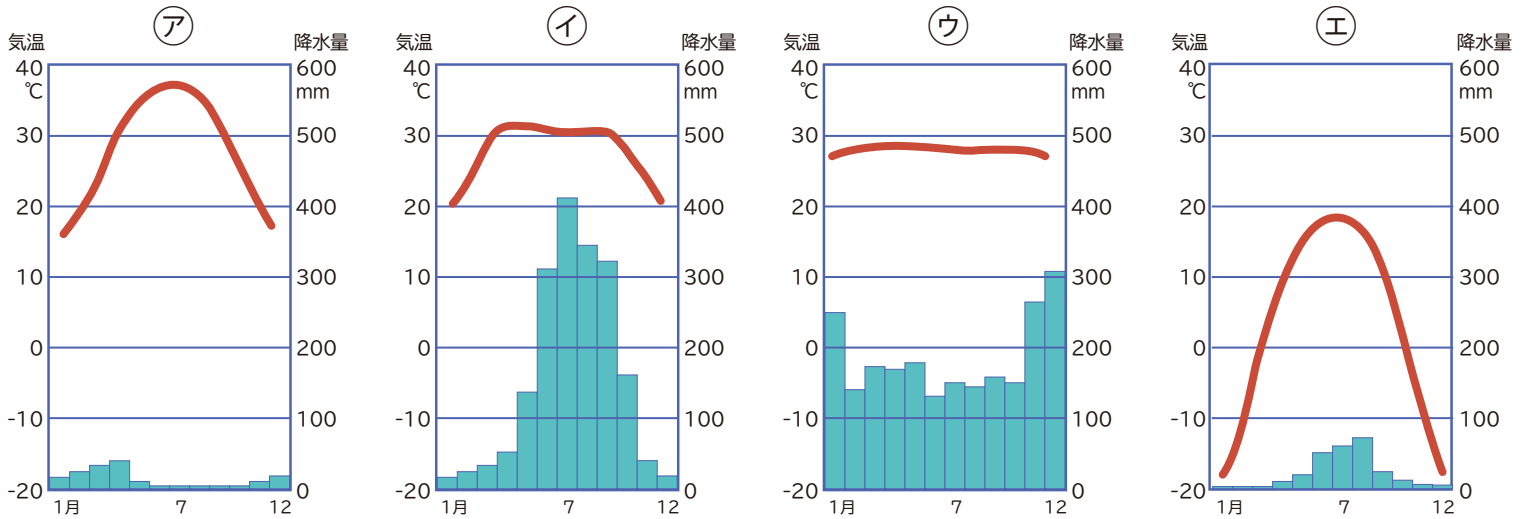
①次の [ ] に当てはまる言葉を書きなさい。

夏と冬で風の向きが変わる [ ] という季節風の影響で、アジアの東部は温帯に属しており [ ] がある。

南部や南東部は雨が多い [ ] と、雨が少ない [ ] が見られる。

アジアの内陸部や西アジアは季節風の影響を受けず雨が少ない [ ] 帯となり、北部は寒帯や冷帯となる。

②次の雨温図ア～エは、地図中の A～D のどこにあてはまるか選びなさい。



A～D を書きなさい

ア
イ
ウ
エ

アジア州の気候と雨温図

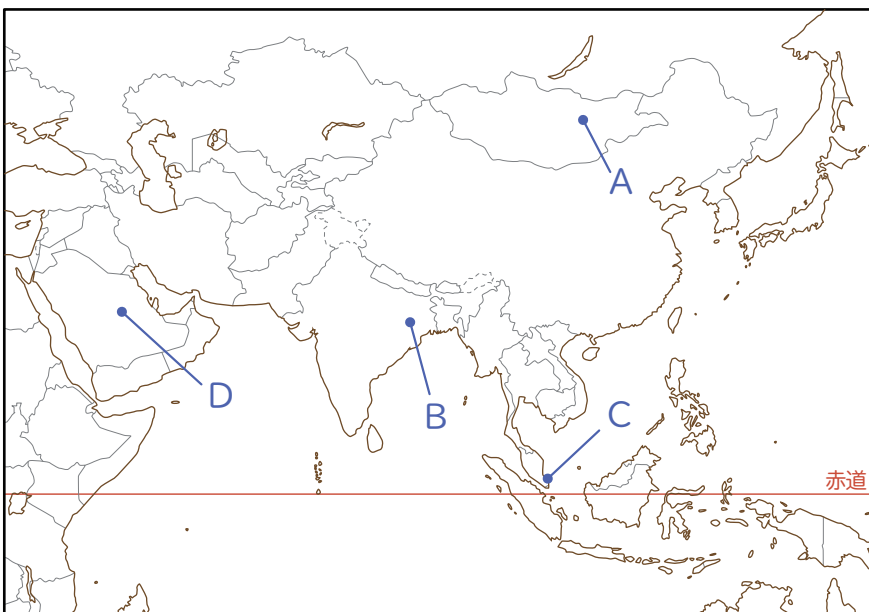
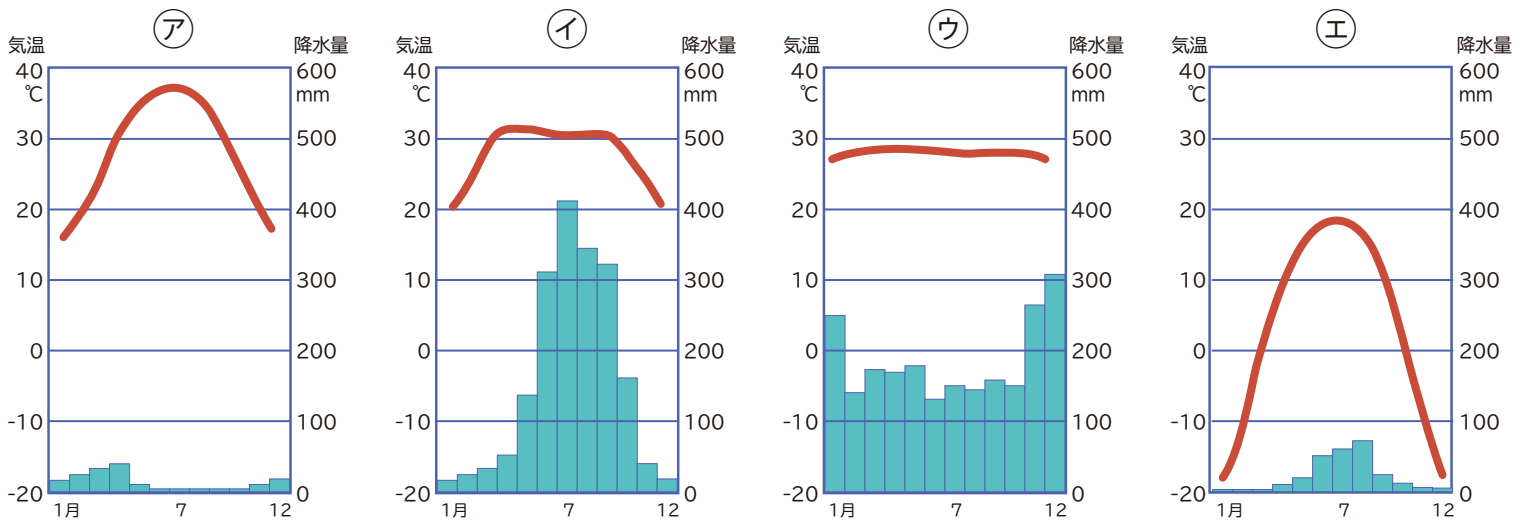
①次の [ ] に当てはまる言葉を書きなさい。

夏と冬で風の向きが変わる [ **モンスーン** ] という季節風の影響で、アジアの東部は温帯に属しており [ **四季** ] がある。

南部や南東部は雨が多い [ **雨季** ] と、雨が少ない [ **乾季** ] が見られる。

アジアの内陸部や西アジアは季節風の影響を受けず雨が少ない [ **乾燥** ] 帯となり、北部は寒帯や冷帯となる。

②次の雨温図ア～エは、地図中の A～D のどこにあてはまるか選びなさい。



A～D を書きなさい

ア	D
イ	B
ウ	C
エ	A

【解説】

- アは一年を通して降水量が少ない乾燥帯となり、西アジアの D となる。
- イは雨季と乾季があるサバナ気候となり、赤道より少し北の B となる。
- ウは一年を通して気温が高く、降水量も多い熱帯雨林気候となり、赤道付近の C となる。
- エは気温が低いので、緯度が高い位置となる。降水量も少ないので内陸部の A となる。