


なんじなんぷん

みじかいはりとながいはりの いちをかくにんするよ

9じ5ふん



12じ40ぷん




3じ52ふん




1 とけいをよみましょう

①



( )

②




( )

③



( )

④




( )

## なんじなんぷん

みじかいはりとながいはりの いちをかくにんするよ

9じ5ふん



12じ40ぷん




3じ52ふん



## 1 とけいをよみましょう

①



( 5じ10ぷん )

②



( 8じ10ぷん )

③



( 1じ40ぷん )

④



( 12じ50ぷん )