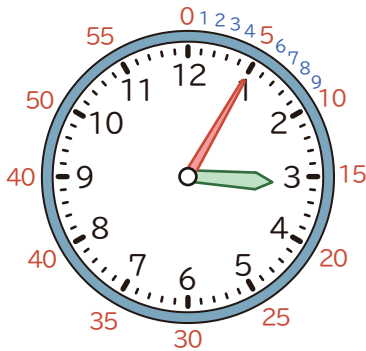


なんじなんぷん

①みじかい はりで なんじを よみます。

②ながい はりで なんぷんを よみます。




①みじかい はりが
3と 4の あいだなので 3じ

②ながい はりが
1なので 5ふん

3じ5ふん


1 なんじなんぷんですか。

①



()


②




()

2 ながい はりを かきましょう。

① 10じ15ふん



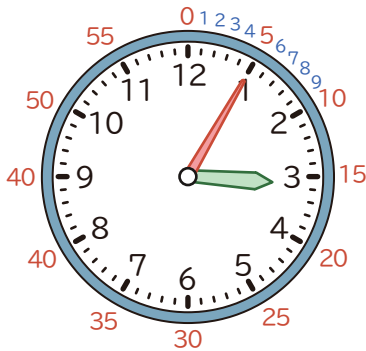
② 7じ25ふん



なんじなんぷん

①みじかい はりで なんじを よみます。

②ながい はりで なんぷんを よみます。




①みじかい はりが
3と 4の あいだなので 3じ

②ながい はりが
1なので 5ふん

3じ5ふん

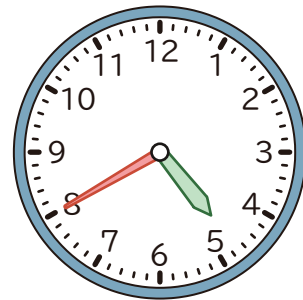
1 なんじなんぷんですか。

①



(11じ20ふん)

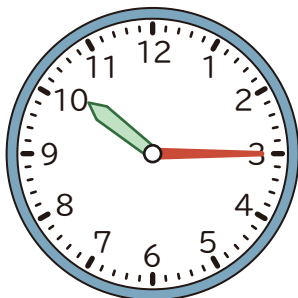
②



(4じ40ふん)

2 ながい はりを かきましょう。

① 10じ15ふん



② 7じ25ふん

