

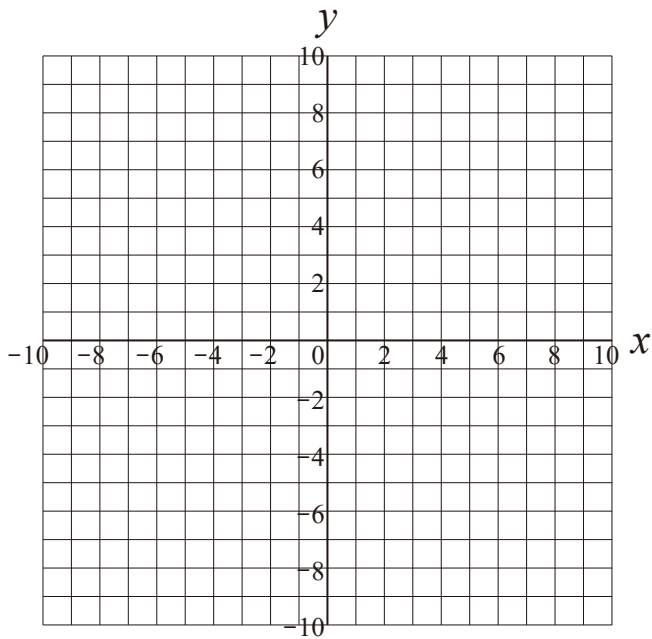
比例のグラフ

比例定数が正の場合

次の式の表を完成させ、グラフをかきましょう。

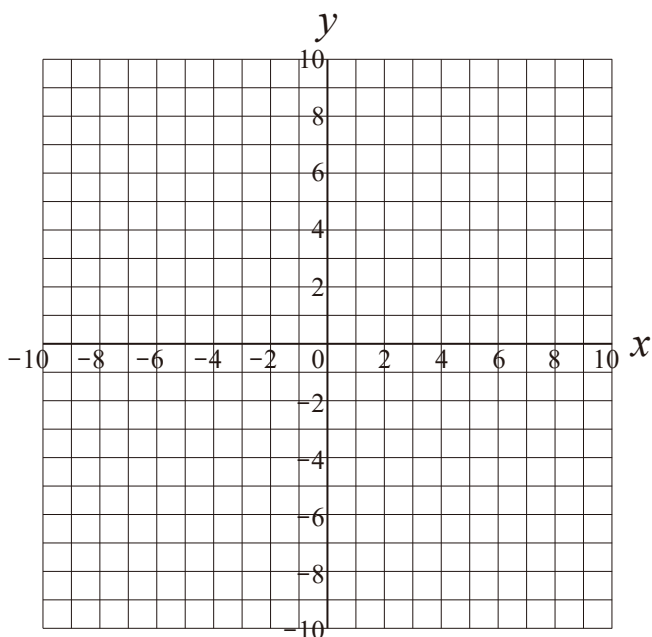
① $y = 3x$

| | | | | | | | | | |
|-----|-----|----|----|----|---|---|---|---|-----|
| x | ... | -3 | -2 | -1 | 0 | 1 | 2 | 3 | ... |
| y | ... | | | | | | | | ... |



② $y = 4x$

| | | | | | | | | | |
|-----|-----|----|----|----|---|---|---|---|-----|
| x | ... | -3 | -2 | -1 | 0 | 1 | 2 | 3 | ... |
| y | ... | | | | | | | | ... |



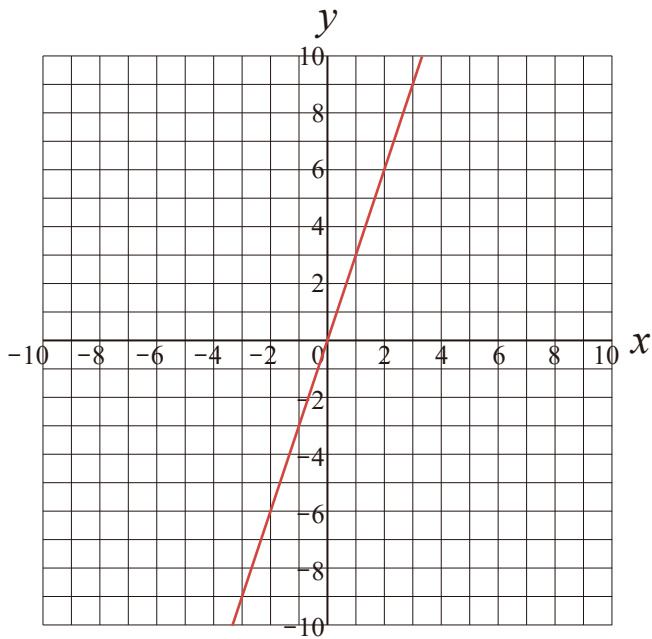
比例のグラフ

比例定数が正の場合

次の式の表を完成させ、グラフをかきましょう。

① $y = 3x$

| | | | | | | | | | |
|-----|-----|----|----|----|---|---|---|---|-----|
| x | ... | -3 | -2 | -1 | 0 | 1 | 2 | 3 | ... |
| y | ... | -9 | -6 | -3 | 0 | 3 | 6 | 9 | ... |



② $y = 4x$

| | | | | | | | | | |
|-----|-----|-----|----|----|---|---|---|----|-----|
| x | ... | -3 | -2 | -1 | 0 | 1 | 2 | 3 | ... |
| y | ... | -12 | -8 | -4 | 0 | 4 | 8 | 12 | ... |

