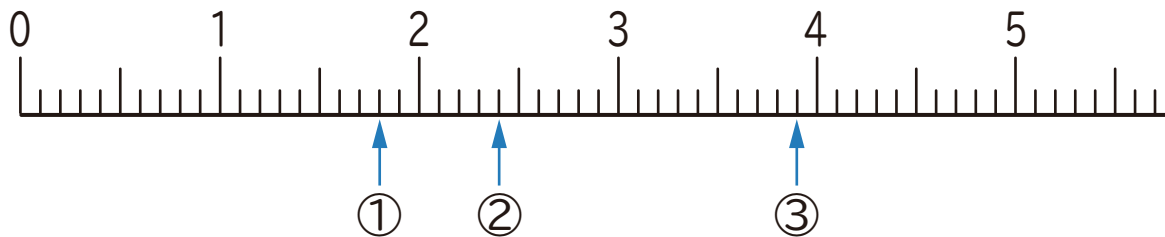


1 下の数直線で、①～③の目もりが表す数を書きましょう。



① ()

② ()

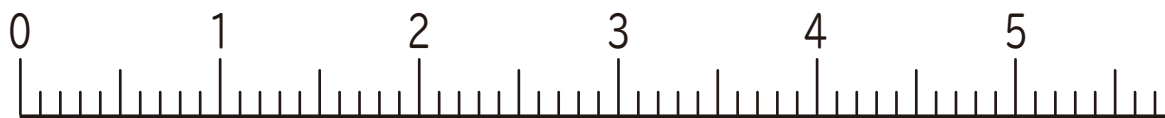
③ ()

2 下の数直線で、①～③の数を表す目もりに↑を書きましょう。

① 0.4

② 2.3

③ 4.5



3 にあてはまる数を書きましょう。

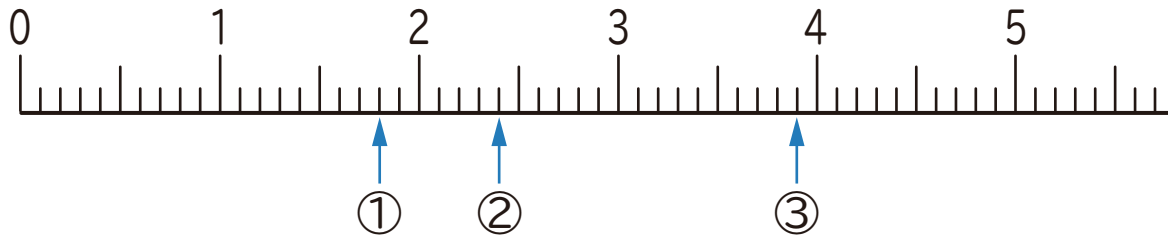
① 8.3は、1を こと0.1を に合わせた数です。

② 6.7は、1を こと0.1を に合わせた数です。

③ 1を3こと0.1を5こ合わせた数は です。

④ 1を2こと0.1を9こ合わせた数は です。

1 下の数直線で、①～③の目もりが表す数を書きましょう。



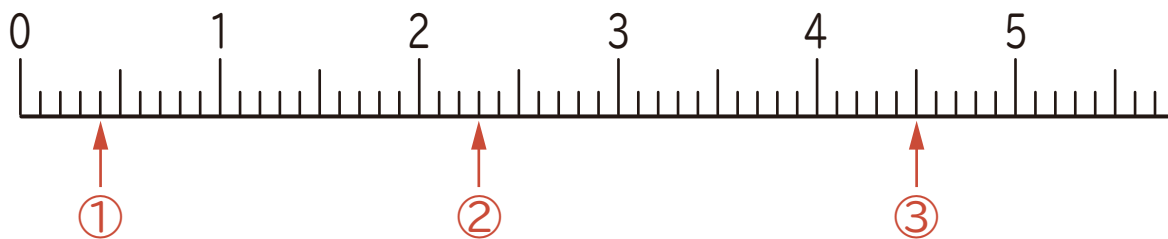
① (1.8)

② (2.4)

③ (3.9)

2 下の数直線で、①～③の数を表す目もりに↑を書きましょう。

① 0.4 ② 2.3 ③ 4.5



3 にあてはまる数を書きましょう。

① 8.3は、1を 8 こと0.1を 3 に合わせた数です。

② 6.7は、1を 6 こと0.1を 7 に合わせた数です。

③ 1を3こと0.1を5こ合わせた数は 3.5 です。

④ 1を2こと0.1を9こ合わせた数は 2.9 です。