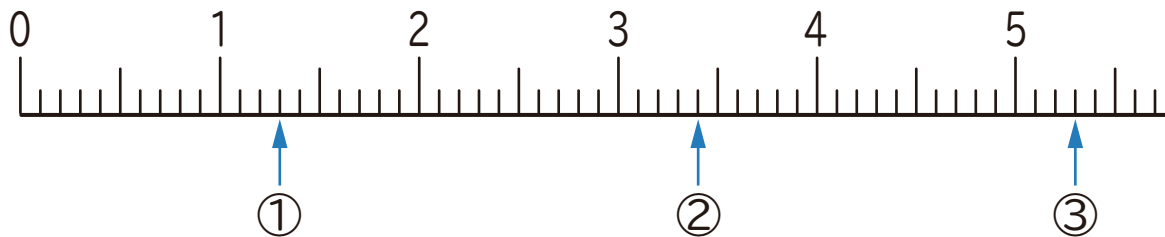


1 下の数直線で、①～③の目もりが表す数を書きましょう。



① ()

② ()

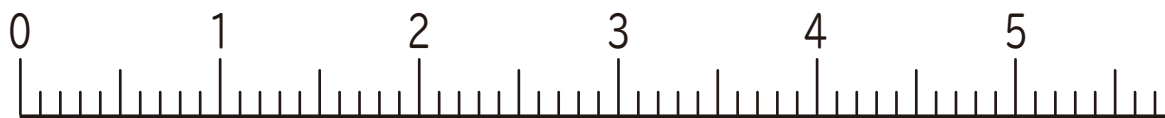
③ ()

2 下の数直線で、①～③の数を表す目もりに↑を書きましょう。

① 1.2

② 3.6

③ 5.1



3 にあてはまる数を書きましょう。

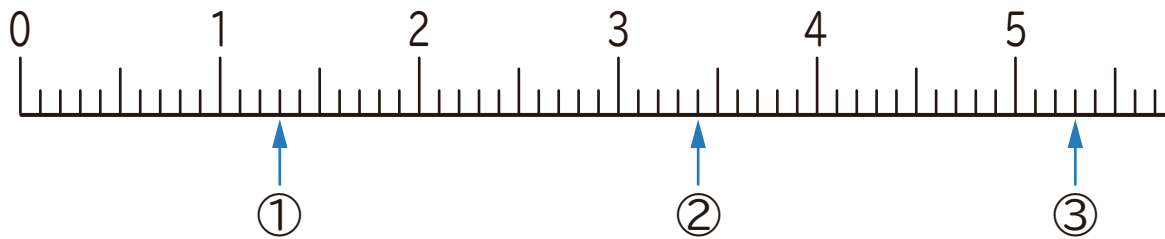
① 6.5は、1を こと0.1を こ合わせた数です。

② 7.3は、1を こと0.1を こ合わせた数です。

③ 1を2こと0.1を8こ合わせた数は です。

④ 1を9こと0.1を6こ合わせた数は です。

1 下の数直線で、①～③の目もりが表す数を書きましょう。



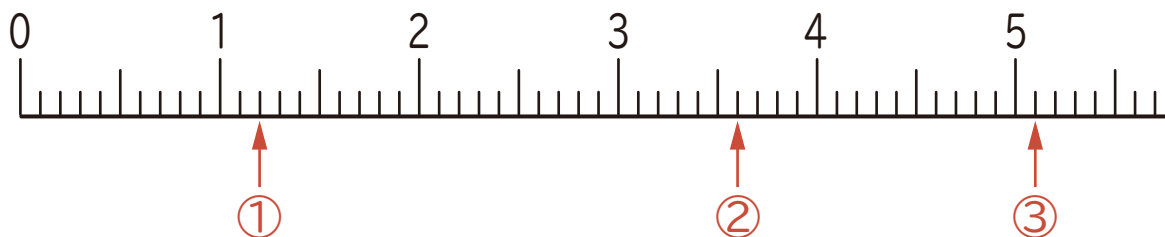
① (1.3)

② (3.4)

③ (5.3)

2 下の数直線で、①～③の数を表す目もりに↑を書きましょう。

① 1.2 ② 3.6 ③ 5.1



3 にあてはまる数を書きましょう。

① 6.5は、1を こと0.1を に合わせた数です。

② 7.3は、1を こと0.1を に合わせた数です。

③ 1を2こと0.1を8こ合わせた数は です。

④ 1を9こと0.1を6こ合わせた数は です。