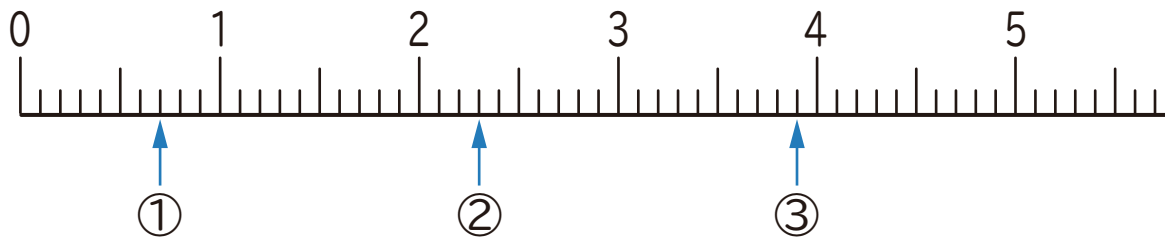


1 下の数直線で、①～③の目もりが表す数を書きましょう。



① ()

② ()

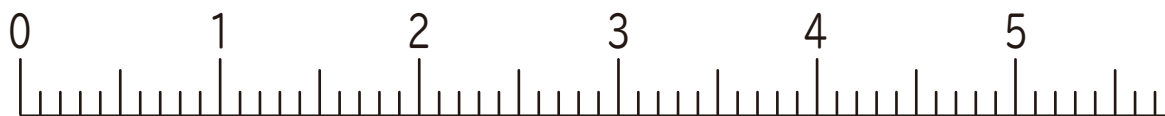
③ ()

2 下の数直線で、①～③の数を表す目もりに↑を書きましょう。

① 0.6

② 2.4

③ 4.2



3 にあてはまる数を書きましょう。

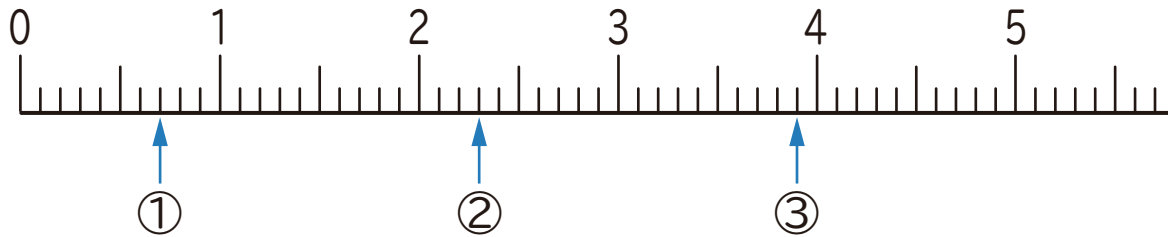
① 3.6は、1を こと0.1を こ合わせた数です。

② 8.9は、1を こと0.1を こ合わせた数です。

③ 1を4こと0.1を7こ合わせた数は です。

④ 1を2こと0.1を5こ合わせた数は です。

1 下の数直線で、①～③の目もりが表す数を書きましょう。



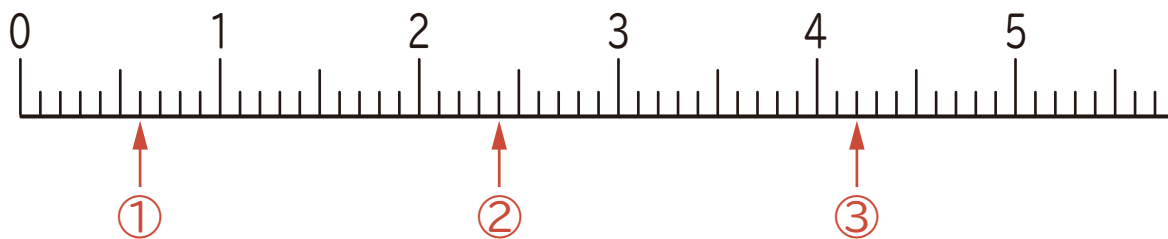
① (0.7)

② (2.3)

③ (3.9)

2 下の数直線で、①～③の数を表す目もりに↑を書きましょう。

① 0.6 ② 2.4 ③ 4.2



3 にあてはまる数を書きましょう。

① 3.6は、1を こと0.1を に合わせた数です。

② 8.9は、1を こと0.1を に合わせた数です。

③ 1を4こと0.1を7に合わせた数は です。

④ 1を2こと0.1を5に合わせた数は です。