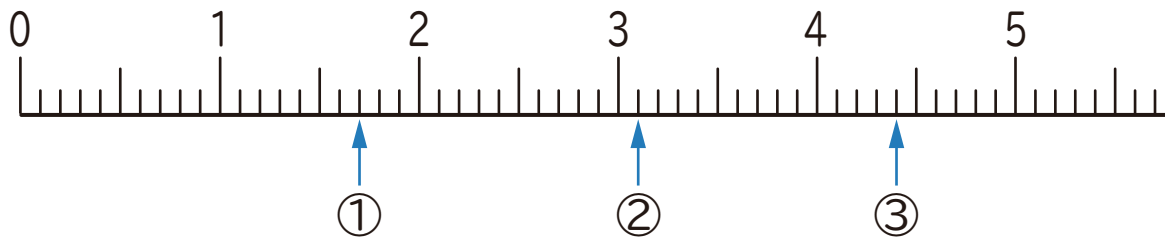


1 下の数直線で、①～③の目もりが表す数を書きましょう。



① ()

② ()

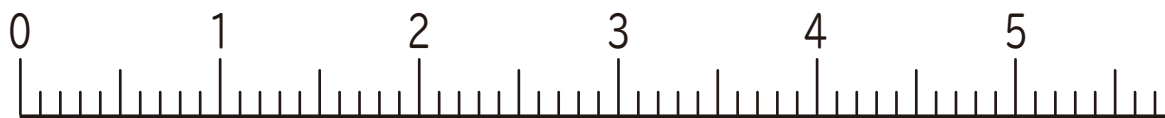
③ ()

2 下の数直線で、①～③の数を表す目もりに↑を書きましょう。

① 1.8

② 3.3

③ 4.7



3 にあてはまる数を書きましょう。

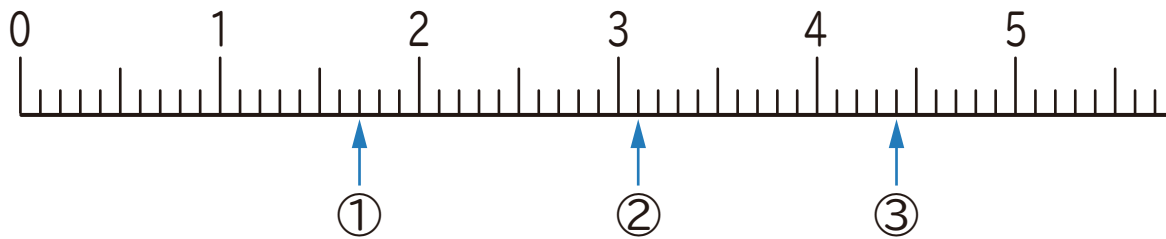
① 4.3は、1を こと0.1を こ合わせた数です。

② 6.5は、1を こと0.1を こ合わせた数です。

③ 1を2こと0.1を9こ合わせた数は です。

④ 1を8こと0.1を5こ合わせた数は です。

1 下の数直線で、①～③の目もりが表す数を書きましょう。



① (1.7)

② (3.1)

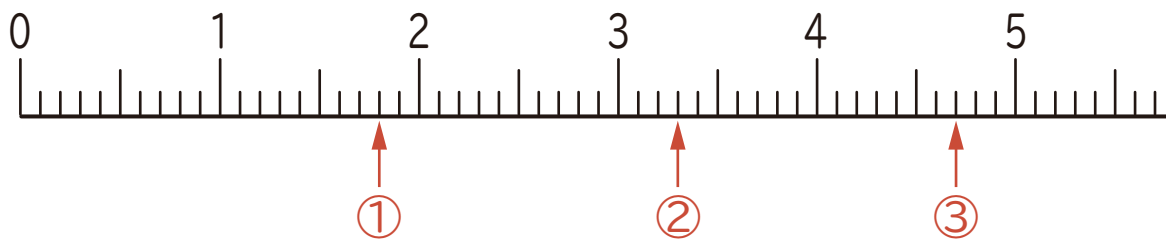
③ (4.4)

2 下の数直線で、①～③の数を表す目もりに↑を書きましょう。

① 1.8

② 3.3

③ 4.7



3 にあてはまる数を書きましょう。

① 4.3は、1を こと0.1を に合わせた数です。

② 6.5は、1を こと0.1を に合わせた数です。

③ 1を2こと0.1を9こ合わせた数は です。

④ 1を8こと0.1を5こ合わせた数は です。