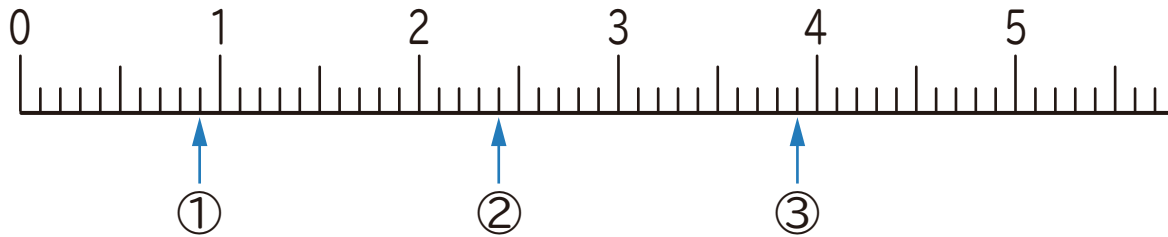


1 下の数直線で、①～③の目もりが表す数を書きましょう。



① ()

② ()

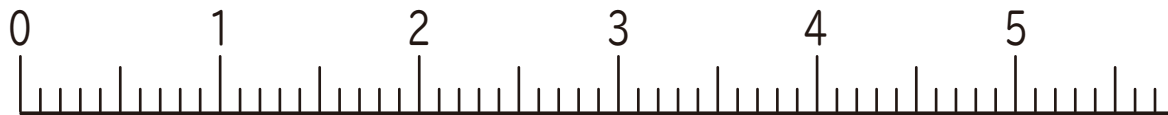
③ ()

2 下の数直線で、①～③の数を表す目もりに↑を書きましょう。

① 2.6

② 3.2

③ 4.5



3 にあてはまる数を書きましょう。

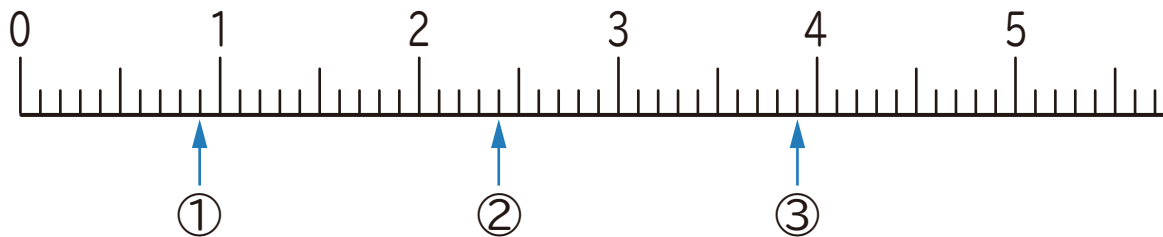
① 2.8は、1を こと0.1を こ合わせた数です。

② 5.2は、1を こと0.1を こ合わせた数です。

③ 1を4こと0.1を6こ合わせた数は です。

④ 1を7こと0.1を3こ合わせた数は です。

1 下の数直線で、①～③の目もりが表す数を書きましょう。



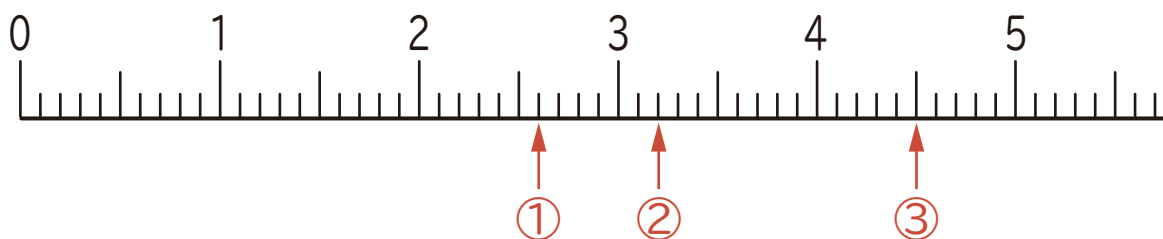
① (0.9)

② (2.4)

③ (3.9)

2 下の数直線で、①～③の数を表す目もりに↑を書きましょう。

① 2.6 ② 3.2 ③ 4.5



3 にあてはまる数を書きましょう。

① 2.8は、1を こと0.1を に合わせた数です。

② 5.2は、1を こと0.1を に合わせた数です。

③ 1を4こと0.1を6こ合わせた数は です。

④ 1を7こと0.1を3こ合わせた数は です。