

長方形や正方形の面積と小数

___月___日

名前_____

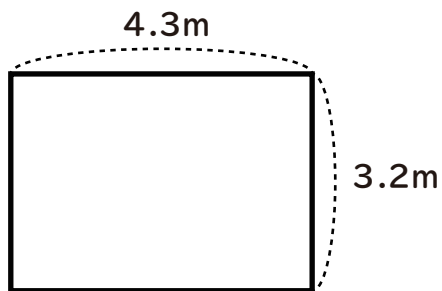
始めた時間_____

終わった時間_____

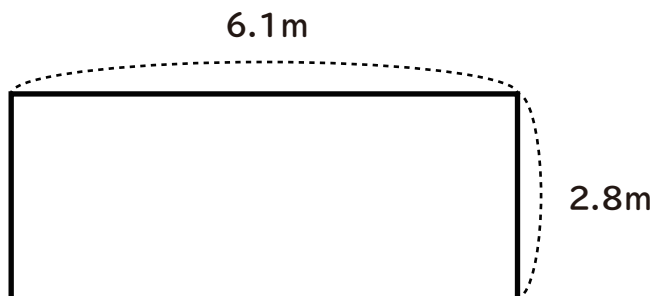
かかった時間_____

次の長方形や正方形の面積を求めましょう。

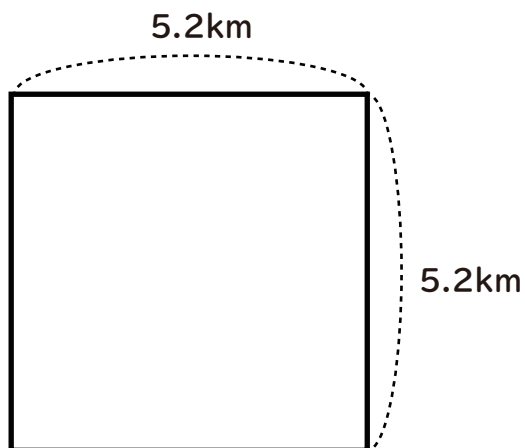
①



②



③



長方形や正方形の面積と小数

___月___日

名前_____

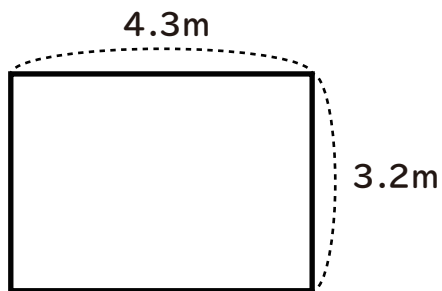
始めた時間_____

終わった時間_____

かかった時間_____

次の長方形や正方形の面積を求めましょう。

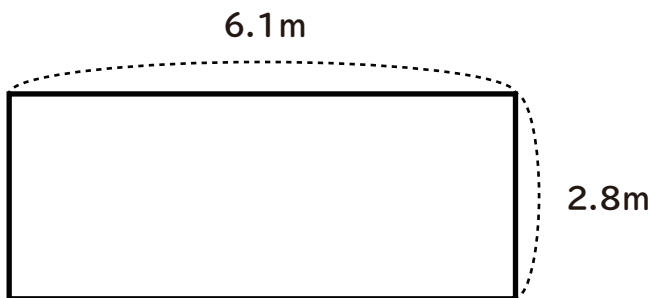
①



$$3.2 \times 4.3 = 13.76$$

$$\underline{13.76\text{m}^2}$$

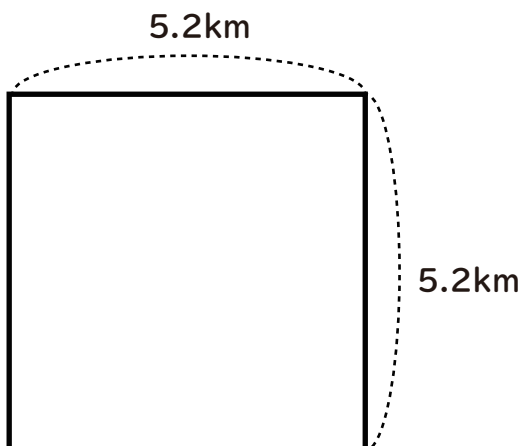
②



$$2.8 \times 6.1 = 17.08$$

$$\underline{17.08\text{m}^2}$$

③



$$5.2 \times 5.2 = 27.04$$

$$\underline{27.04\text{km}^2}$$