

長方形や正方形の面積と小数

___月___日

名前_____

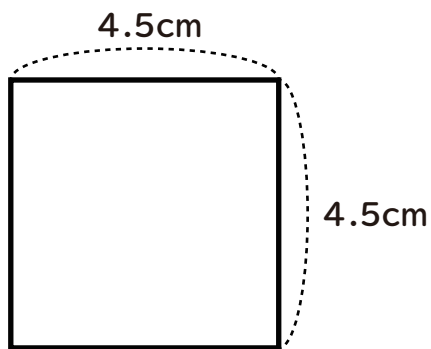
始めた時間_____

終わった時間_____

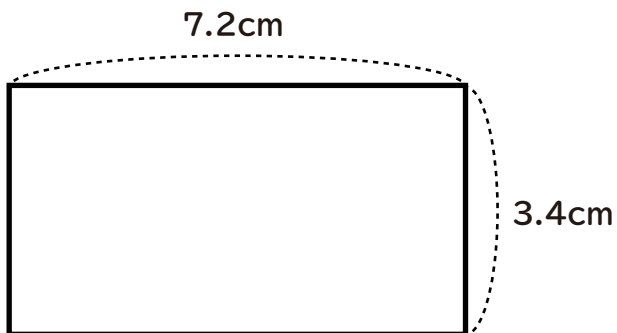
かかった時間_____

次の長方形や正方形の面積を求めましょう。

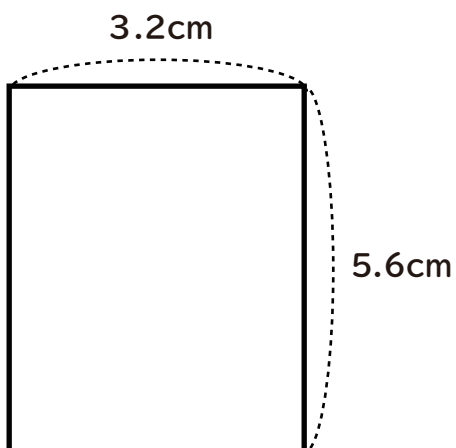
①



②



③



長方形や正方形の面積と小数

___月___日

名前_____

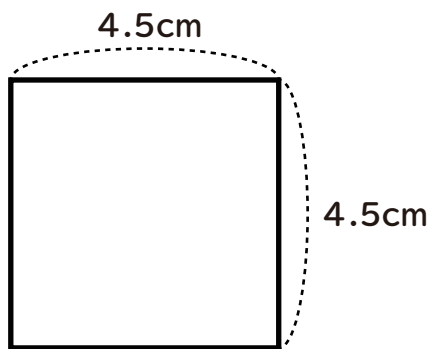
始めた時間_____

終わった時間_____

かかった時間_____

次の長方形や正方形の面積を求めましょう。

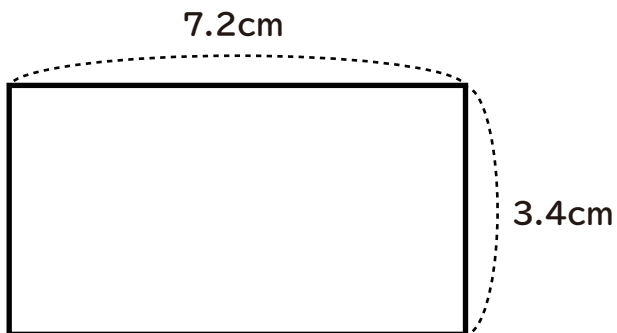
①



$$4.5 \times 4.5 = 20.25$$

$$\underline{20.25\text{cm}^2}$$

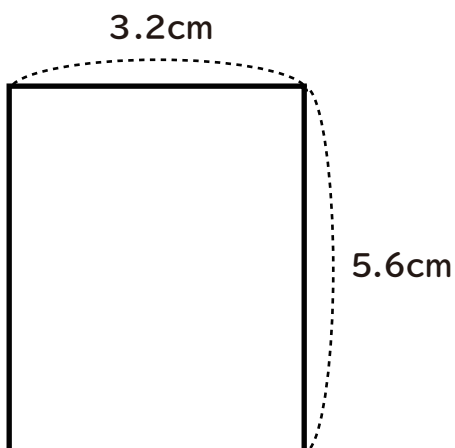
②



$$3.4 \times 7.2 = 24.48$$

$$\underline{24.48\text{cm}^2}$$

③



$$5.6 \times 3.2 = 17.92$$

$$\underline{17.92\text{cm}^2}$$