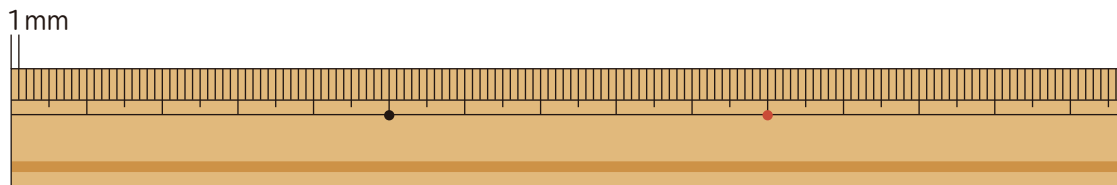


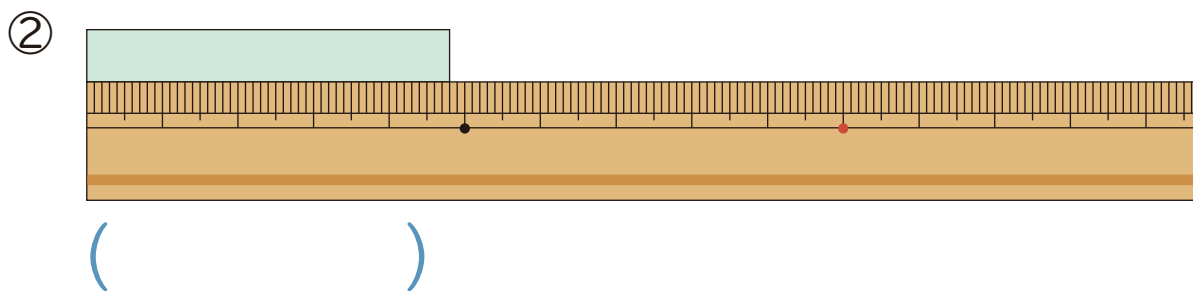
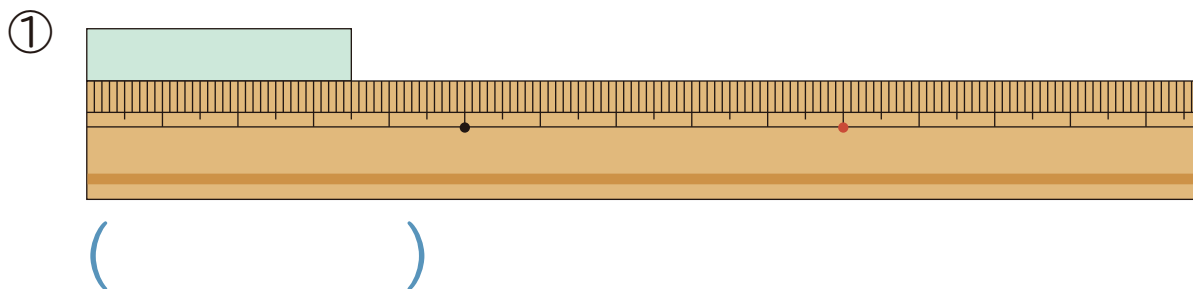
## ミリメートル

1cmを 同じ長さに 10こに分けた 1つの 長さを  
1ミリメートルといい、1mmと書きます。



$$1\text{ cm} = 10\text{ mm}$$

1 テープの 長さは 何cm何mmですか。



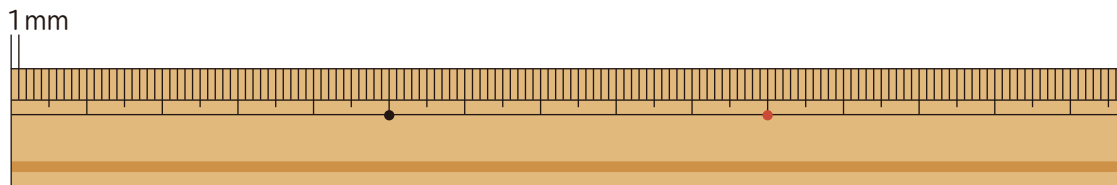
2  に あてはまる 数 を 書きましょう。

① 2cmは  mmです。

② 5cm7mmは  mmです。

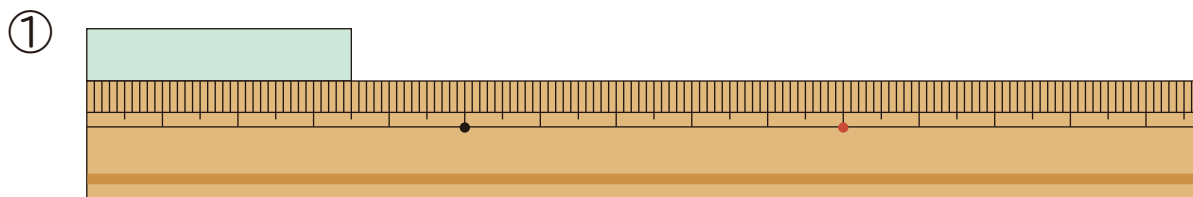
## ミリメートル

1cmを 同じ長さに 10こに分けた 1つの 長さを  
1ミリメートルといい、1mmと書きます。

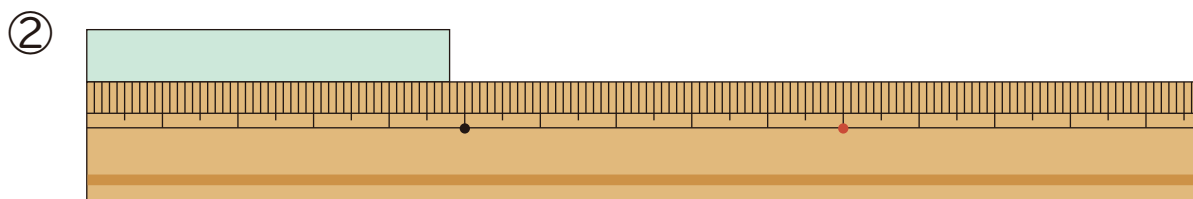


$$1\text{ cm} = 10\text{ mm}$$

1 テープの 長さは 何cm何mmですか。



( 3cm5mm )



( 4cm8mm )

2  に あてはまる 数 を 書きましょう。

① 2cmは  mmです。

② 5cm7mmは  mmです。