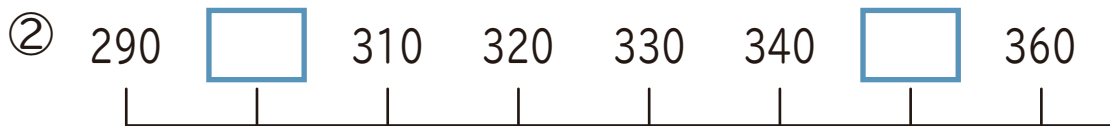
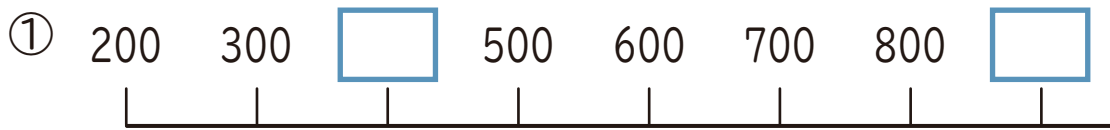


算数

100より 大きい数
数の線(千までの数)と 数の 大小

1 に あてはまる 数 を 書きましょう。



2 に あてはまる 数 を 書きましょう。

① 500より 400 大きい 数は です。

② 300より 200 小さい 数は です。

③ 400より 40 大きい 数は です。

④ 700より 60 小さい 数は です。

3 に あてはまる >か <を 書きましょう。

① 359 574

② 426 268

③ 732 789

④ 267 225

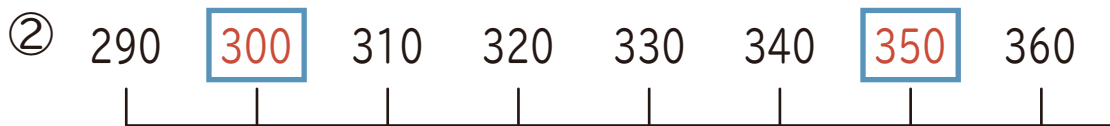
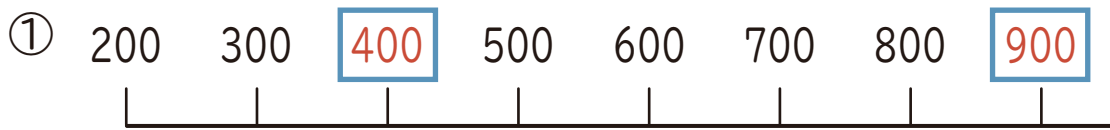
⑤ 904 902

⑥ 826 726

算数

100より 大きい数
数の線(千までの数)と 数の 大小

1 に あてはまる 数 を 書きましょう。



2 に あてはまる 数 を 書きましょう。

① 500より 400 大きい 数は 900 です。

② 300より 200 小さい 数は 100 です。

③ 400より 40 大きい 数は 440 です。

④ 700より 60 小さい 数は 640 です。

3 に あてはまる > か < を 書きましょう。

① 359 < 574

② 426 > 268

③ 732 < 789

④ 267 > 225

⑤ 904 > 902

⑥ 826 > 726