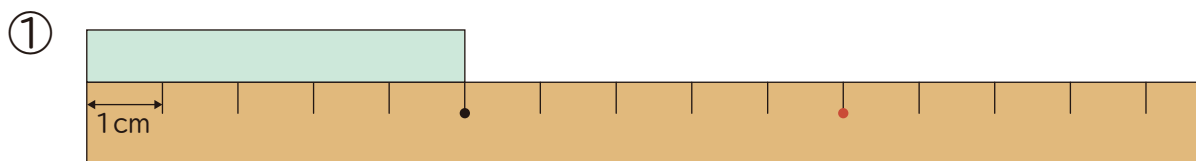
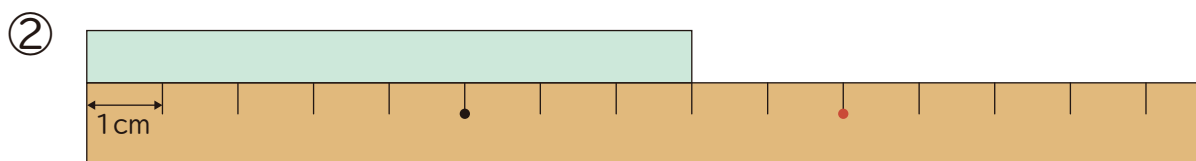


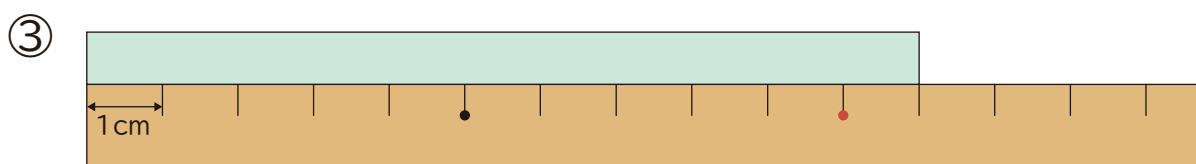
1 テープの 長さは 何cmですか。



(       )



(       )



(       )

2  に あてはまる 数を 書きましょう。

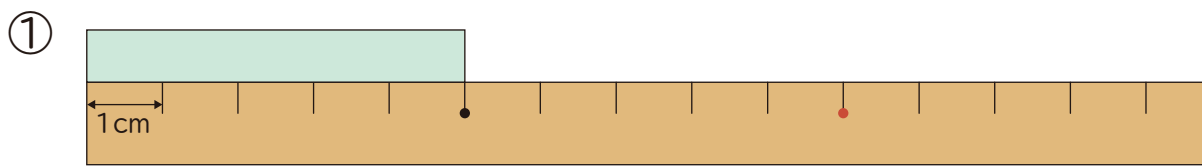
① 1 cmの 7つ分の 長さは  cmです。

② 1 cmの 3つ分の 長さは  cmです。

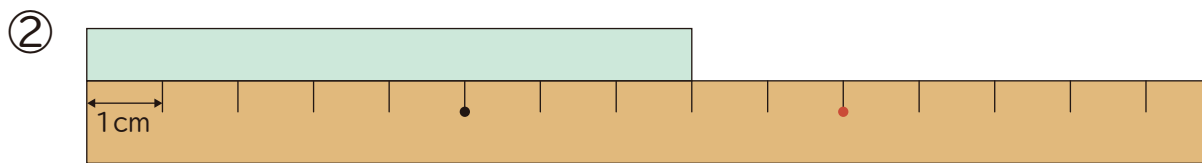
③ 9 cmは 1 cmの  っ分の 長さです。

④ 4 cmは 1 cmの  っ分の 長さです。

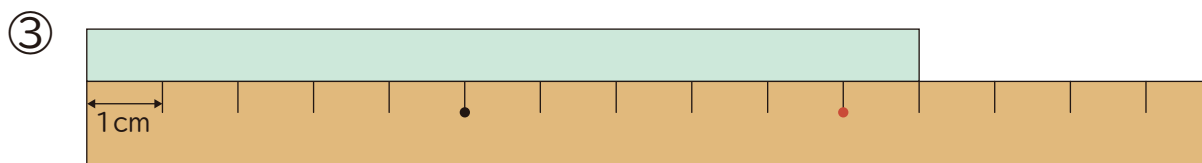
1 テープの 長さは 何cmですか。



( 5cm )



( 8cm )



( 11cm )

2  に あてはまる 数を 書きましょう。

① 1cmの 7つ分の 長さは  7 cmです。

② 1cmの 3つ分の 長さは  3 cmです。

③ 9cmは 1cmの  9 っ分の 長さです。

④ 4cmは 1cmの  4 っ分の 長さです。