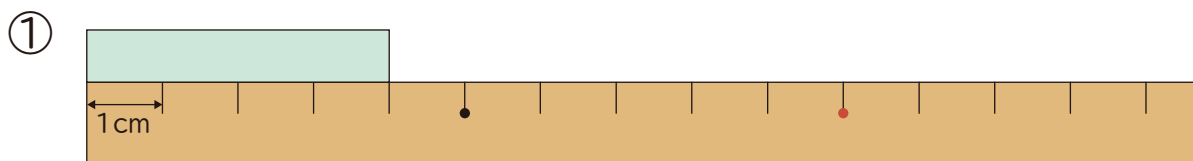
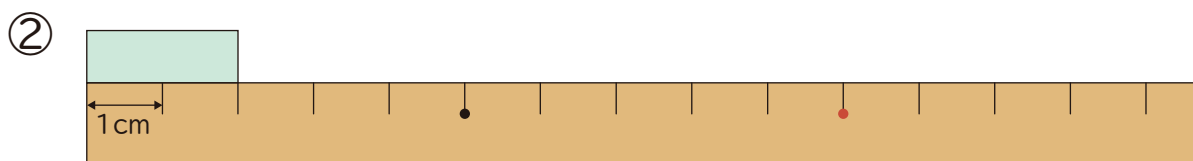


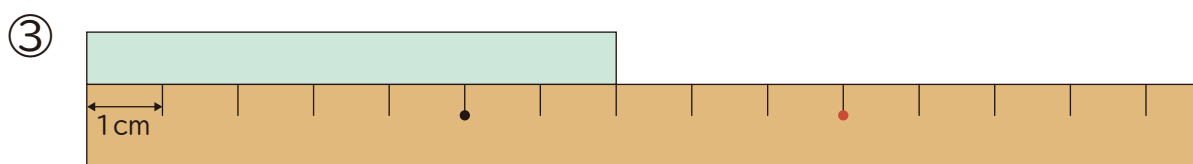
1 テープの 長さは 何cmですか。



(       )



(       )



(       )

2  に あてはまる 数を 書きましょう。

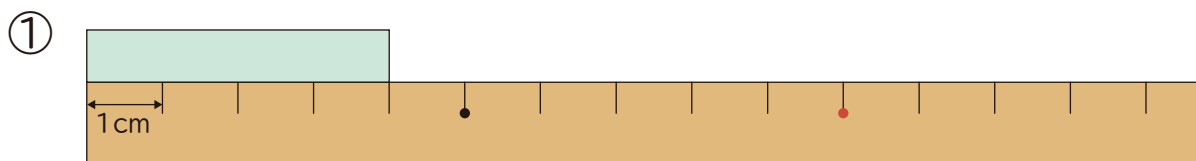
① 1cmの 5つ分の 長さは  cmです。

② 1cmの 3つ分の 長さは  cmです。

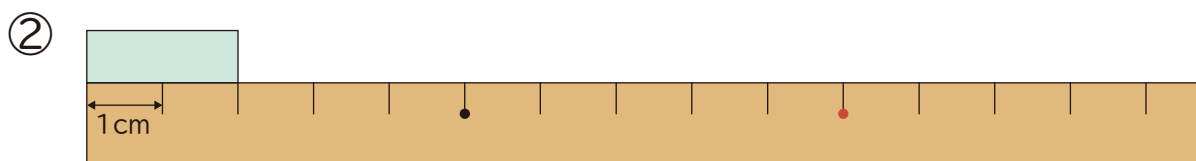
③ 6cmは 1cmの  っ分の 長さです。

④ 8cmは 1cmの  っ分の 長さです。

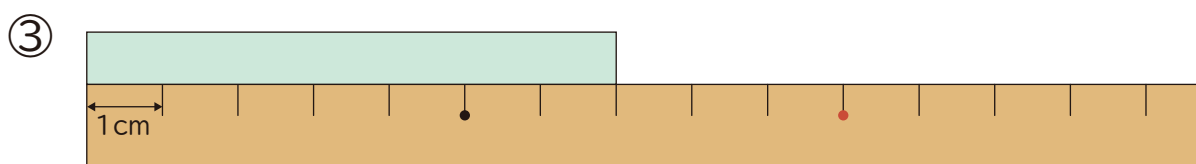
1 テープの 長さは 何cmですか。



( 4cm )



( 2cm )



( 7cm )

2  に あてはまる 数を 書きましょう。

① 1cmの 5つ分の 長さは  cmです。

② 1cmの 3つ分の 長さは  cmです。

③ 6cmは 1cmの  つ分の 長さです。

④ 8cmは 1cmの  つ分の 長さです。