

## センチメートル

下のものさしの 1めもりの 長さを

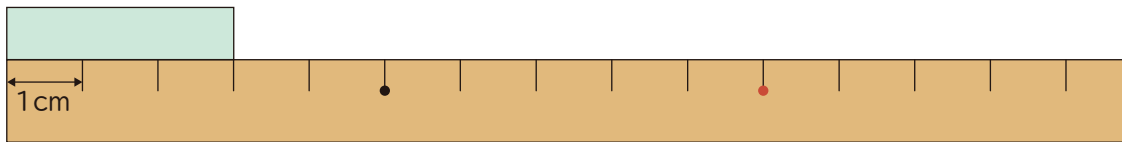
1センチメートルといい、1cmと書きます。



長さは 1cmの いくつ分で あわらすことが できます。

1 テープの 長さは 何cmですか。

①



(       )

②



(       )

2  に あてはまる 数を 書きましょう。

① 1cmの 2つ分の 長さは  cmです。

② 6cmは 1cmの  っ分の 長さです。

## センチメートル

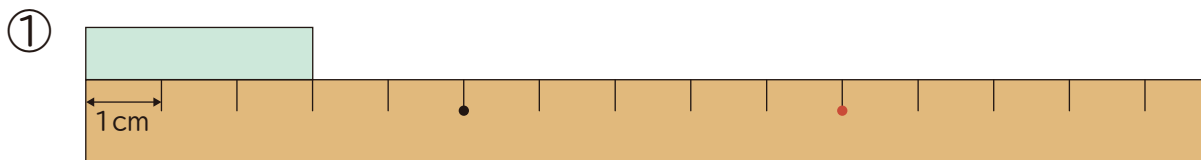
下のものさしの 1めもりの 長さを

1センチメートルといい、1cmと書きます。

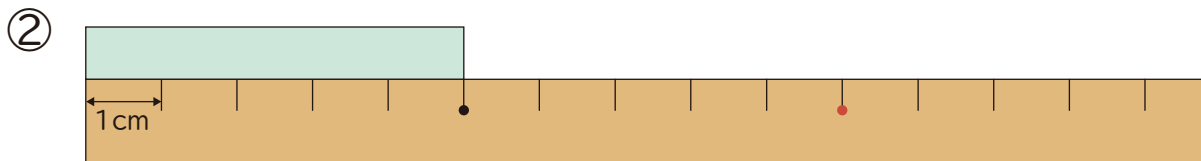


長さは 1cmの いくつ分で あわらすことが できます。

1 テープの 長さは 何cmですか。



( 3cm )



( 5cm )

2  に あてはまる 数を 書きましょう。

① 1cmの 2つ分の 長さは  cmです。

② 6cmは 1cmの  つ分の 長さです。