

時こくと時間

___月___日

なまえ_____


はじめたじかん_____

おわったじかん_____

かかったじかん_____

つぎの時こくをもとめましょう

- ① 午前9時40分から、40分たった時こく



- ② 午後1時20分の、25分前の時こく



- ③ 午後6時30分から、50分たった時こく



- ④ 午後3時5分の、15分前の時こく



時こくと時間

___月___日

なまえ_____


はじめたじかん_____

おわったじかん_____

かかったじかん_____


つぎの時こくをもとめましょう

- ① 午前9時40分から、40分たった時こく



午前10時20分

- ② 午後1時20分の、25分前の時こく



午後12時55分

- ③ 午後6時30分から、50分たった時こく



午後7時20分

- ④ 午後3時5分の、15分前の時こく



午後2時50分
