

# 時くと時間

\_\_\_月\_\_\_日

なまえ\_\_\_\_\_

はじめたじかん\_\_\_\_\_

終わったじかん\_\_\_\_\_

かかったじかん\_\_\_\_\_

つぎの時間は何分でしょう

①



から



までの時間

\_\_\_\_\_

②




から



までの時間

\_\_\_\_\_

③




から



までの時間

\_\_\_\_\_

④



から



までの時間

\_\_\_\_\_

# 時くと時間

\_\_\_月\_\_\_日

なまえ\_\_\_\_\_

はじめたじかん\_\_\_\_\_

おわったじかん\_\_\_\_\_

かかったじかん\_\_\_\_\_

つぎの時間は何分でしょう

①




から



までの時間

30分

②



から



までの時間

15分

③




から



までの時間

20分

④



から



までの時間

17分