

とけいのよみかた

___月 ___日

なまえ _____

はじめたじかん _____

おわったじかん _____


かかったじかん _____

とけいをよみましょう

①




④




②




⑤



③



⑥



とけいのよみかた

___月 ___日

なまえ _____

はじめたじかん _____

おわったじかん _____

かかったじかん _____


とけいをよみましょう

①



10じ10ぶん

④



2じ32ぶん

②



6じ15ぶん

⑤



5じ16ぶん

③



8じ50ぶん

⑥



7じ52ぶん