

多角形の角の大きさ

___ 月 ___ 日

名前 _____

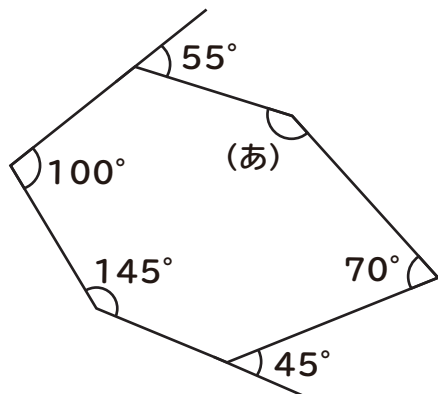
始めた時間 _____

終わった時間 _____

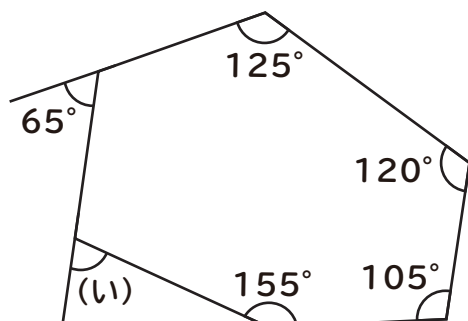
かかった時間 _____

次の（あ）～（う）の角の大きさを求めましょう

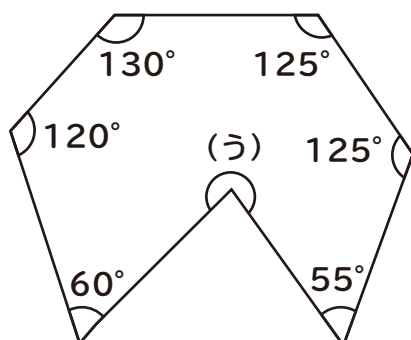
①



②



③



多角形の角の大きさ

___月___日

名前_____

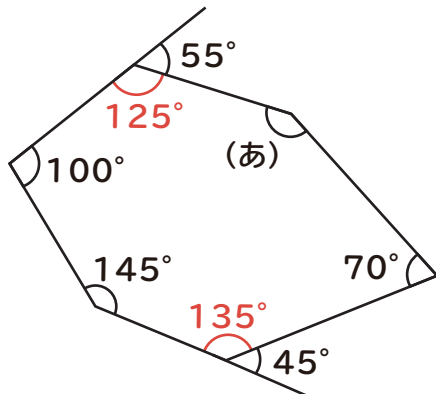
始めた時間_____

終わった時間_____

かかった時間_____

次の（あ）～（う）の角の大きさを求めましょう

①



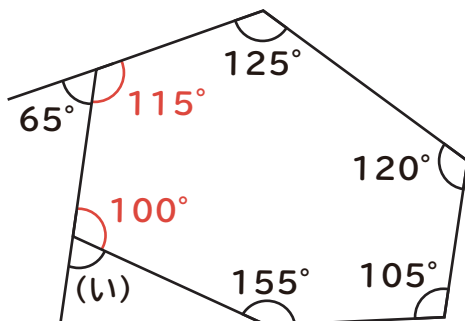
$$180^\circ - 55^\circ = 125^\circ$$

$$180^\circ - 45^\circ = 135^\circ$$

$$720^\circ - (125^\circ + 100^\circ + 145^\circ + 135^\circ + 70^\circ) = 145^\circ$$

145°

②



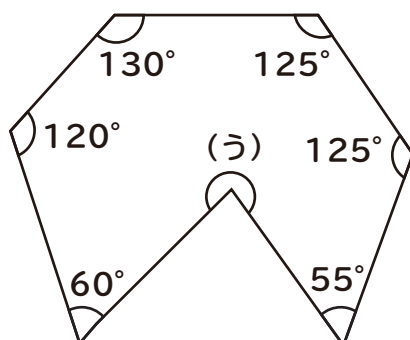
$$180^\circ - 65^\circ = 115^\circ$$

$$720^\circ - (115^\circ + 125^\circ + 120^\circ + 105^\circ + 155^\circ) = 100^\circ$$

$$180^\circ - 100^\circ = 80^\circ$$

80°

③



$$900^\circ - (60^\circ + 120^\circ + 130^\circ + 125^\circ + 125^\circ + 55^\circ) = 285^\circ$$

285°