

平行四辺形の面積

___ 月 ___ 日

名前 _____

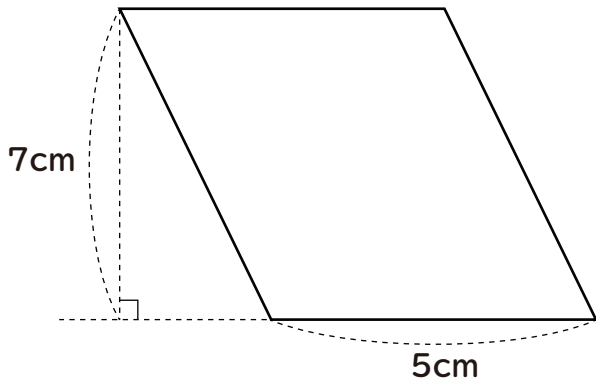
始めた時間 _____

終わった時間 _____

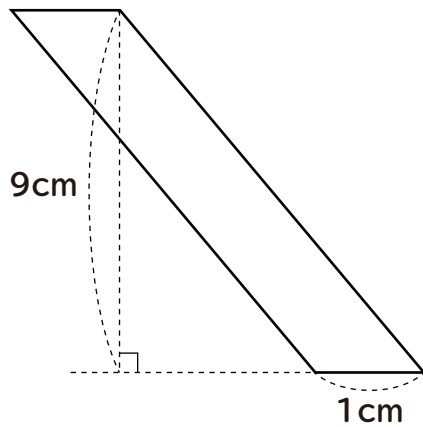
かかった時間 _____

次の平行四辺形の面積を求めましょう。

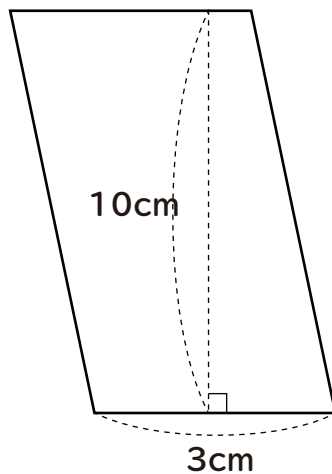
①



②



③



平行四辺形の面積

___月___日

名前_____

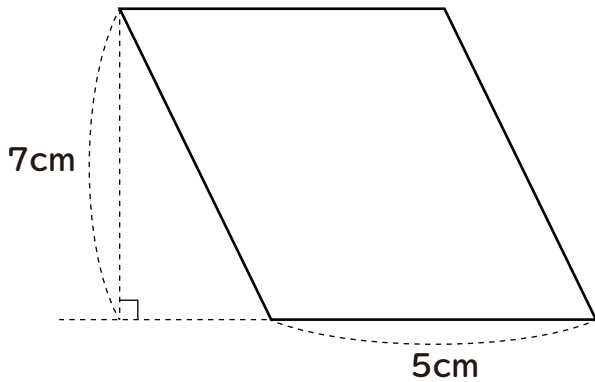
始めた時間_____

終わった時間_____

かかった時間_____

次の平行四辺形の面積を求めましょう。

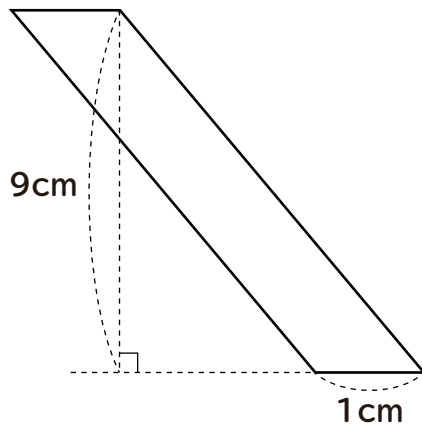
①



$$5 \times 7 = 35$$

$$\underline{35\text{cm}^2}$$

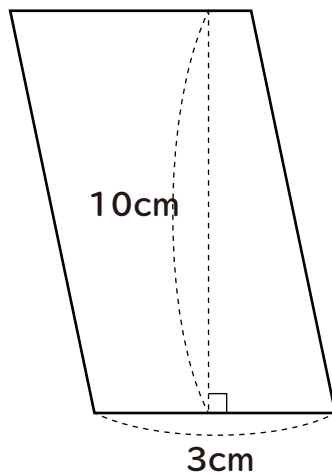
②



$$1 \times 9 = 9$$

$$\underline{9\text{cm}^2}$$

③



$$3 \times 10 = 30$$

$$\underline{30\text{cm}^2}$$