

長方形や正方形の面積

___月___日

名前_____

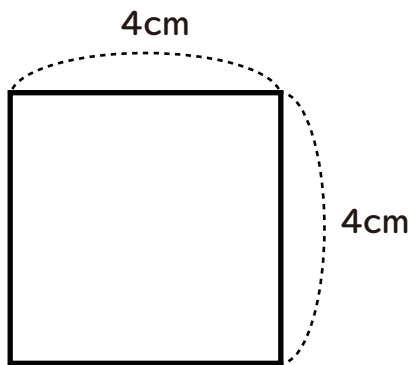
はじめた時間_____

終わった時間_____

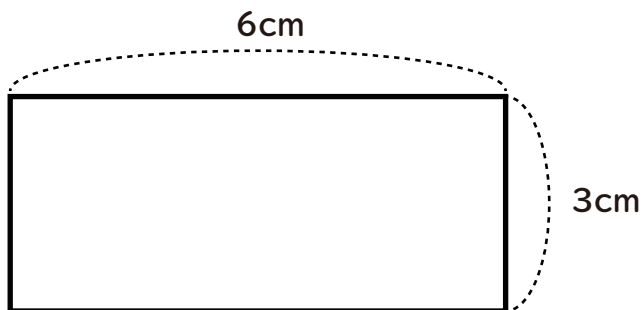
かかった時間_____

次の長方形や正方形の面積を求めましょう。

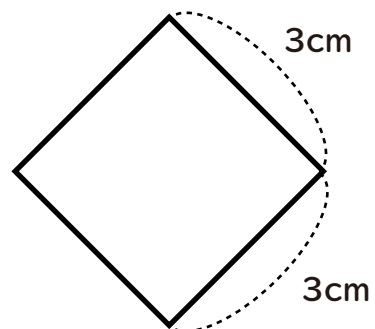
①



②



③



長方形や正方形の面積

___月___日

名前_____

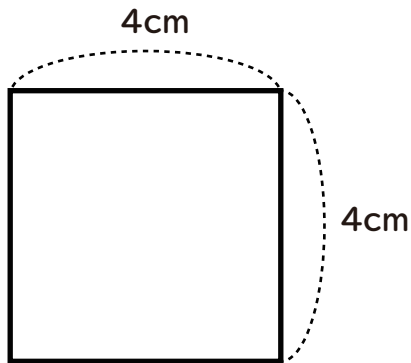
はじめた時間_____

終わった時間_____

かかった時間_____

次の長方形や正方形の面積を求めましょう。

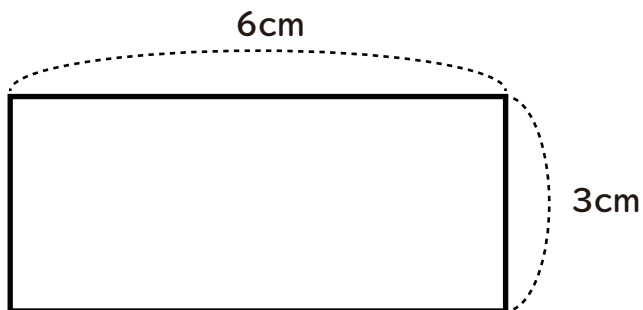
①



$$4 \times 4 = 16$$

$$\underline{16\text{cm}^2}$$

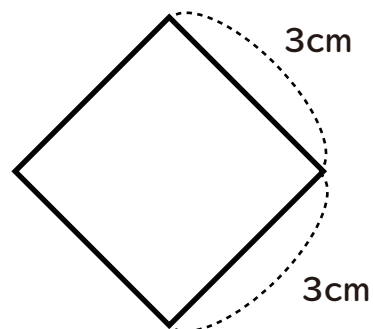
②



$$3 \times 6 = 18$$

$$\underline{18\text{cm}^2}$$

③



$$3 \times 3 = 9$$

$$\underline{9\text{cm}^2}$$