

長方形や正方形の面積

___月___日

名前_____

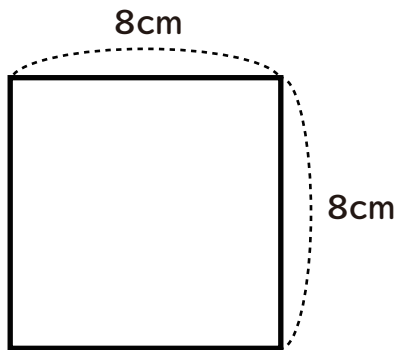
はじめた時間_____

終わった時間_____

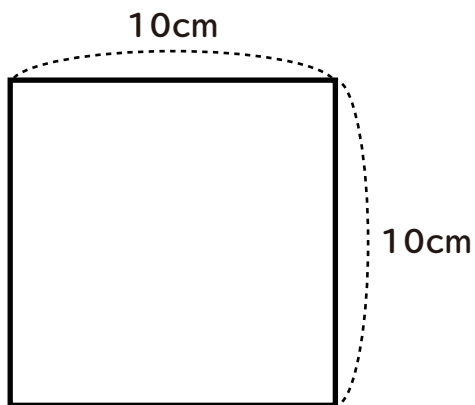
かかった時間_____

次の正方形の面積を求めましょう。

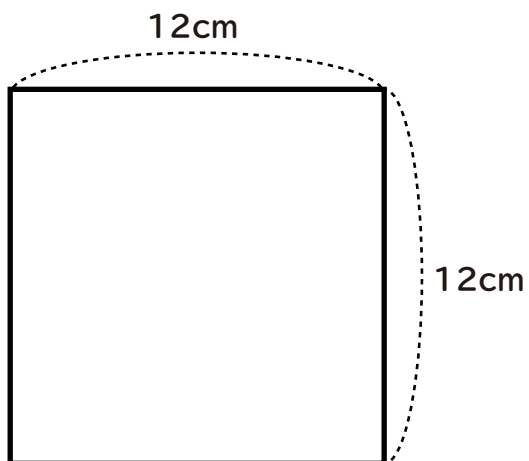
①



②



③



長方形や正方形の面積

___月___日

名前_____

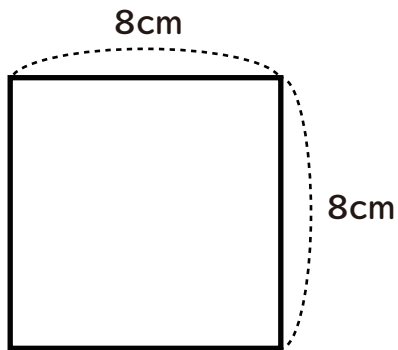
はじめた時間_____

終わった時間_____

かかった時間_____

次の正方形の面積を求めましょう。

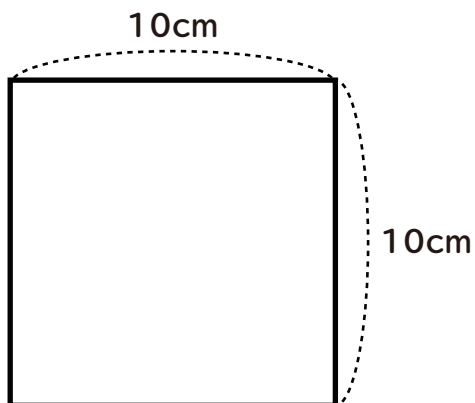
①



$$8 \times 8 = 64$$

$$\underline{64\text{cm}^2}$$

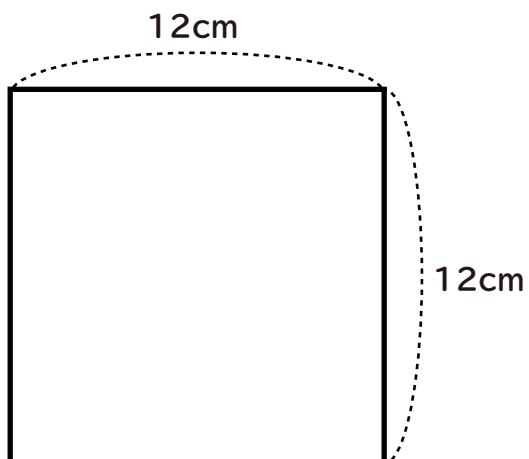
②



$$10 \times 10 = 100$$

$$\underline{100\text{cm}^2}$$

③



$$12 \times 12 = 144$$

$$\underline{144\text{cm}^2}$$